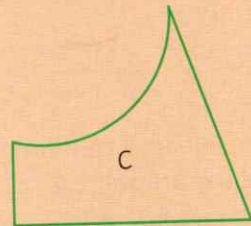
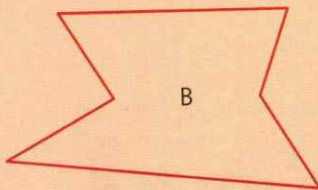
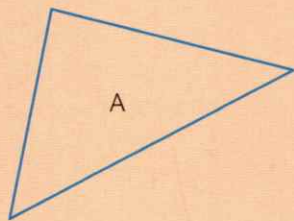



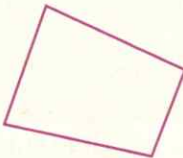
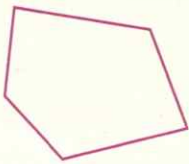
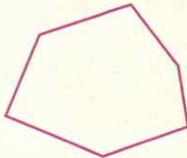
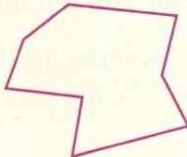
3 Les polygones

CHERCHONS ENSEMBLE

Observe ces figures. Quels sont les points communs ? Quelles sont les différences ?



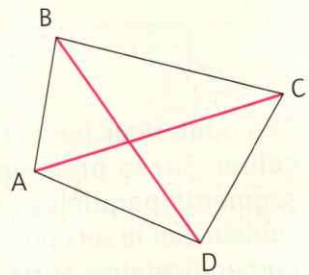
Un polygone est une surface plane délimitée par des segments de droites. Le nom du polygone est défini en fonction du nombre de côtés qu'il possède.

				
3 côtés	4 côtés	5 côtés	6 côtés	8 côtés
Triangle	Quadrilatère	Pentagone	Hexagone	Octogone

On appelle **diagonale** la droite qui relie deux sommets non consécutifs.

Exemple :

AC et BD sont les diagonales du quadrilatère ABCD.



1 Observe ces figures. Lesquelles sont des polygones ? Justifie tes réponses.

