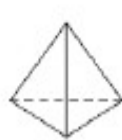


5**Les patrons correspondent-ils aux solides ? entoure la bonne réponse**

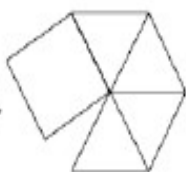
tétraèdre régulier

 OUI NON

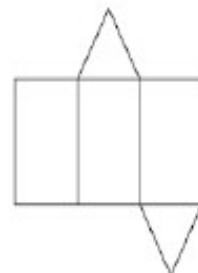
cylindre

 OUI NON


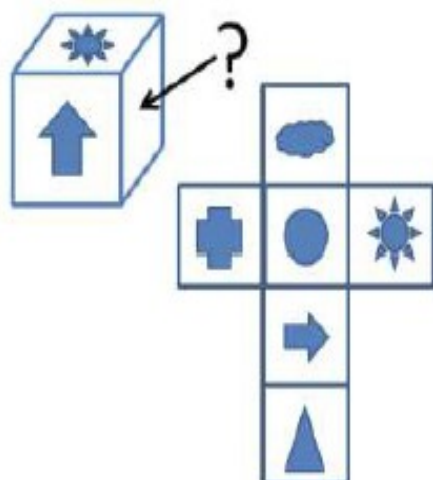
pyramide à base carrée

 OUI NON

octaèdre irrégulier

 OUI NON

cône

 OUI NON**6****Voici un cube et son patron**

Quel motif figure sur la face marquée d'un point d'interrogation ?

Quel motif figure sur la face opposée au soleil ?

Quel motif figure sur la face opposée à la flèche ?