

Measures

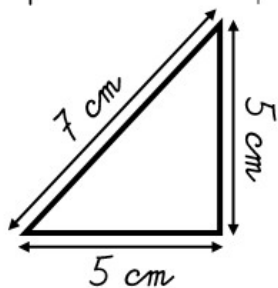
CMI

PRÉNOM :

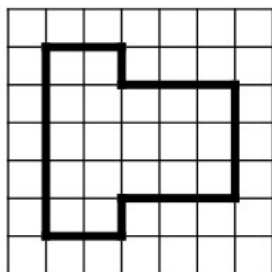


① Calcule le périmètre de ces polygones.

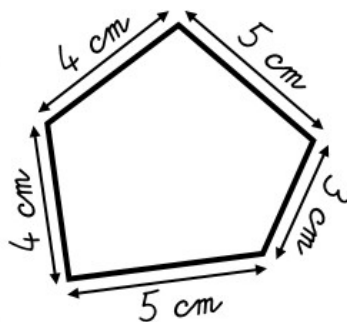
<https://laclassebleue.fr/>



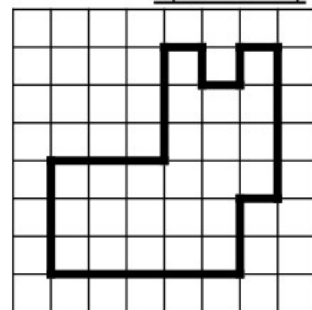
P = _____
P = _____ cm



P = _____
P = _____ carreaux



P = _____
P = _____ cm

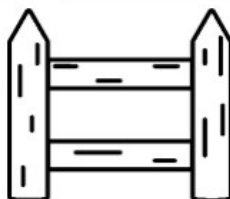


P = _____
P = _____ carreaux

② Résous ce problème dans ton cahier.

Thomas veut entourer son potager carré de 15 m de côté avec une barrière.

Quelle longueur de barrière lui faut-il ?



③ Dans ton cahier, trace un polygone de périmètre 12 carreaux !