


Je révisé



Exercice n° 1


Effectue ces opérations.

$$\begin{array}{r} 614 \\ - 39 \\ \hline 575 \end{array}$$

$$\begin{array}{r} 84 \\ - 23 \\ \hline 61 \end{array}$$

$$\begin{array}{r} 35 \\ + 98 \\ \hline 133 \end{array}$$

Exercice n° 2



Résous ce problème.

Pour partir en vacances, le papa de Lili pense rouler 284 km le matin et 457 km l'après-midi.

Combien de km vont-ils faire dans la journée ?

$$\text{Calcul : } 284 + 457 = 741$$

Phrase-réponse : Ils vont faire 741 km.

<http://laclasselle.fr/>

Score :

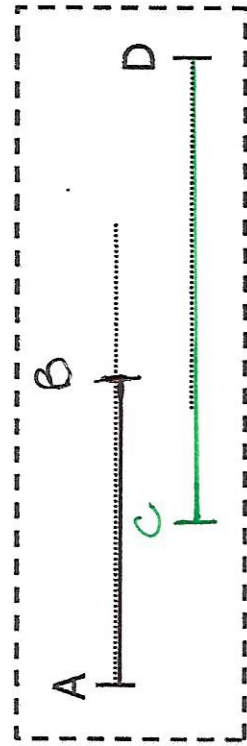
$$\begin{array}{r} 511 \\ - 26 \\ \hline 485 \end{array}$$

$$\begin{array}{r} 48 \\ + 76 \\ \hline 124 \end{array}$$

Exercice n° 3

Trace :

- un segment bleu [AB] de 4 cm de longueur,
- un segment vert [CD] de 6 cm.



L'addition - La soustraction - Mesure des longueurs