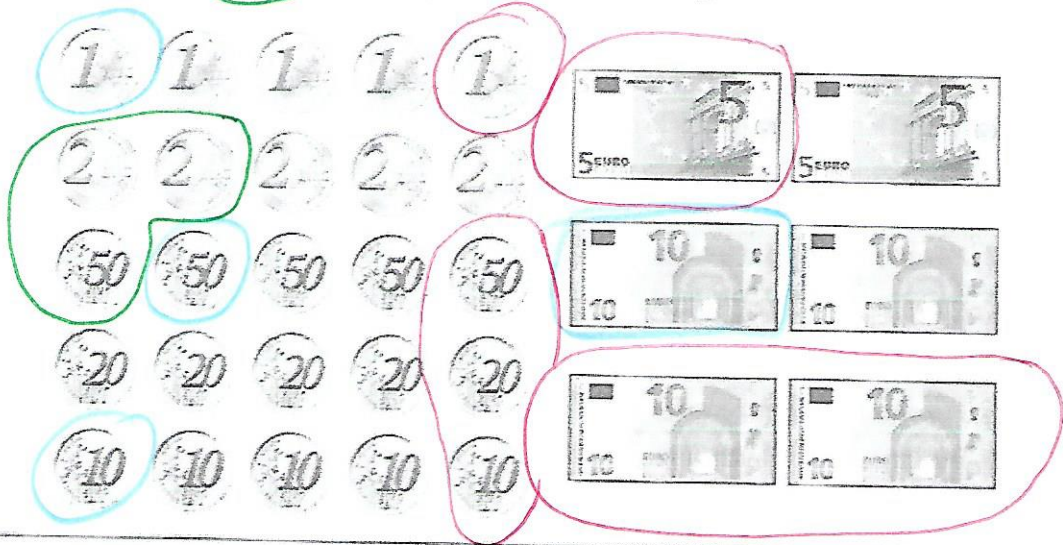
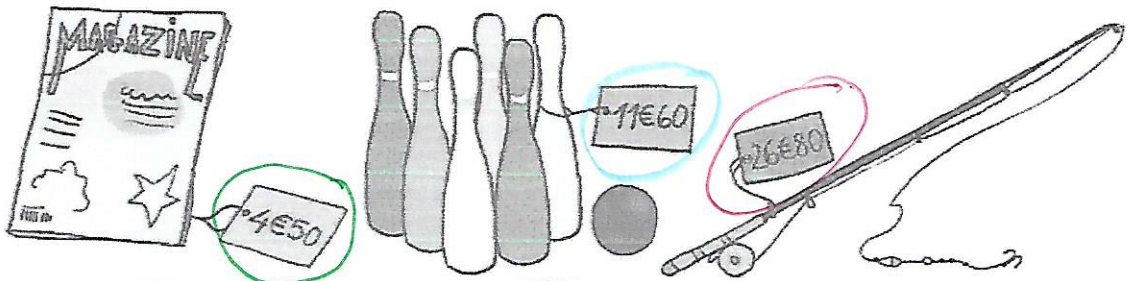


Je révisé

Connaître la relation entre euro et centime d'euro

1 Entoure de la couleur de l'étiquette les pièces que tu peux utiliser pour acheter chaque objet.



Connaître le g et le kg

2 Avec quelle unité (g ou kg) mesure-t-on :


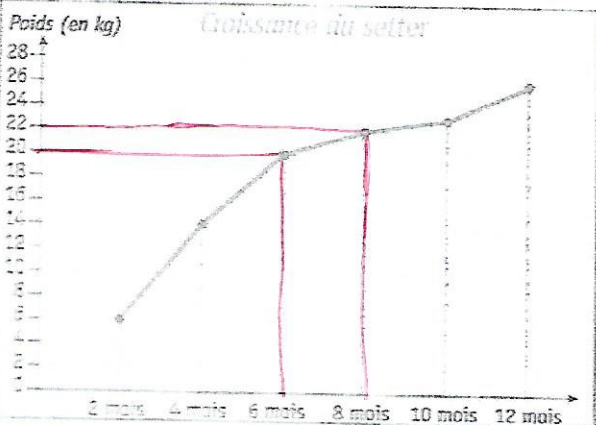
a. la masse d'une trousse ?

b. la masse d'un éléphant ? *kg*

c. la masse d'un pain au chocolat ?

g

3 **PROBLÈME** Utilise le graphique pour répondre aux questions.



a. Le setter a-t-il toujours grossi ?

oui

b. À quel âge pesait-il 22 kg ?

8 mois

c. Quel poids faisait-il à 6 mois ?

20 kg