

3 PROBLEME Voici la quantité d'eau que chaque animal peut boire en une seule fois :




a. Chameau

135 L




b. Cocker

1 L



c. Éléphant

225 L



d. Cheval

50 L

Classe ces animaux, de celui qui boit le plus à celui qui boit le moins.


éléphant - chameau - cheval - cocker

4 PROBLEME Une vache qui allaite son petit boit beaucoup d'eau. Un éleveur a rempli un réservoir avec 200 L. Après le passage de la vache, il reste 105 L.

Combien la vache a-t-elle bu de litres d'eau ?

$$200 - 105 = 95$$

La vache a bu 95 L d'eau



5 PROBLEME Kim prépare un milkshake pour 5 groupes de 4 enfants.

Voici sa recette :

Pour 4 personnes :

- 1 L de lait
- 3 boules de glace à la vanille
- 3 gouttes de vanille liquide

A-t-il assez avec 6 litres de lait ?

Pour 5 groupes il faut 5 L de lait.
Kim a assez avec 6 litres.

6 PROBLEME Il faut 50 L d'eau par poisson rouge dans un bassin. Mohamed veut acheter 2 poissons. Il a déjà versé 7 seaux de 10 L.

a. Combien de litres d'eau faut-il dans le bassin

pour 2 poissons ? Il faut 100 L

b. Combien de litres d'eau a-t-il déjà mis

dans son bassin ? 70 L

c. Combien de litres d'eau manque-t-il encore

dans le bassin ? $100 - 70 = 30 L$

d. Combien de seaux lui faudra-t-il pour finir

de remplir son bassin ? Il faudra 3 seaux