












Prénom : .....

Date : .....

<b>MESURE</b>	<h2 style="margin: 0;">LA MONNAIE</h2> <p style="margin: 0;">Les euros (€) <small>(02)</small></p>
---------------	--

1./ Quelle est la somme d'argent représentée ? (Rappel : 100 cts = 1 euro)

 <b>0 euro et 78 cts</b>	 <b>2... euro(s) et 40 cts</b>	 <b>0... euro(s) et 96 cts</b>
 <b>1... euro(s) et 10 cts</b>	 <b>2... euro(s) et 0 cts</b>	 <b>0... euro(s) et 88 cts</b>
 <b>1... euro(s) et 55 cts</b>	 <b>2... euro(s) et 7 cts</b>	<p>2 pièces de </p> <p>3 pièces de </p> <p>3 pièces de </p> <b>0... euro(s) et 95 cts</b>

2./ Pierrot a cassé sa tirelire. Voici ce qu'il a trouvé. Aide-le à compter son trésor !...



- Nombre de pièces de 50 cts : **12**  
 - Nombre de pièces de 20 cts : **13**

- Nombre de pièces de 10 cts : **18**  
 - Nombre de pièces de 5 cts : **22**

**Somme totale dans la tirelire :**  
**11 euros et 50 cts**

$12 \times 50 = 600 \text{ ct}$   
 $13 \times 20 = 260 \text{ ct}$

$18 \times 10 = 180 \text{ ct}$   
 $22 \times 5 = 110 \text{ ct}$

**Total:  $600 + 260 + 180 + 110 = 1150 \text{ ct}$  soit 11 euros et 50 ct**