

# Calculs de durées (1)


1 Dans combien de temps sera-t-il... ?



une heure ?



trois heures ?



cinq heures ?




midi ?




2 heures ?



10 heures ?



8 heures ?



8 heures ?

2 Combien de minutes depuis... ?



10 heures ?



13 heures ?



16 heures ?



minuit ?






onze heures ?



sept heures ?



quatre heures ?