

La suite des nombres 1

1 - 3 - 6 - 10 - 15 - ?

La suite des nombres 2

2 - 7 - 12 - 17 - 22 - ?

Le compte est bon

45

2

10

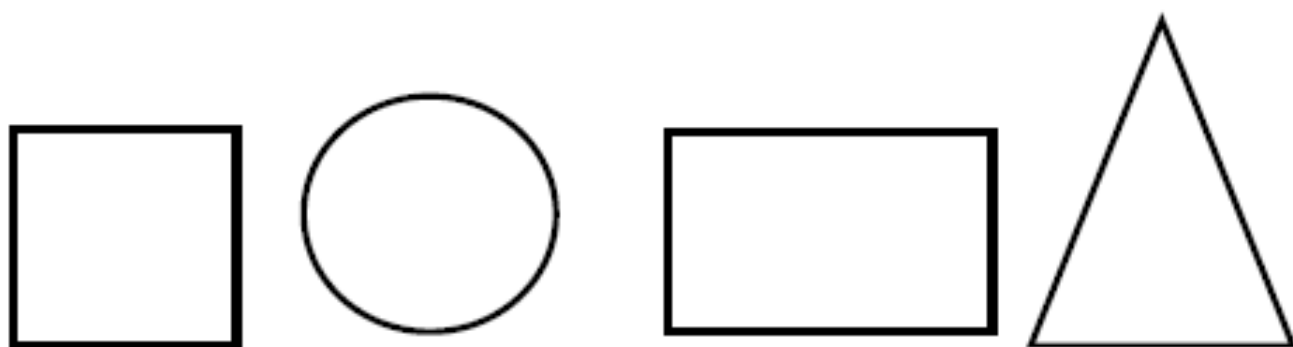
2

5

Voici quatre lettres : A, B, C, D à ranger en fonction des indications suivantes :

- . la lettre A n'est pas dans le carré;
- . La lettre B est dans le cercle ;
- . La lettre C n'est pas dans une figure à quatre côtés.

Dans quelle figure se trouve chaque lettre ?



Le nombre mystère (ce2)

J'ai 12 centaines et 13 unités. Qui suis-je ?

Le nombre mystère (ce1)

J'ai 2 centaines et 13 unités. Qui suis-je ?

Le nombre mystère

ABC

A est le chiffre des unités de 418.

B est le chiffre des dizaines de 965.

C est le chiffre des centaines de 781.

— — —

Monsieur Mathurin est un fermier qui a des poules et des vaches. En regardant tous les animaux, il voit 5 têtes et 16 pattes.

Combien le fermier a-t-il de poules?

Combien le fermier a-t-il de vaches ?

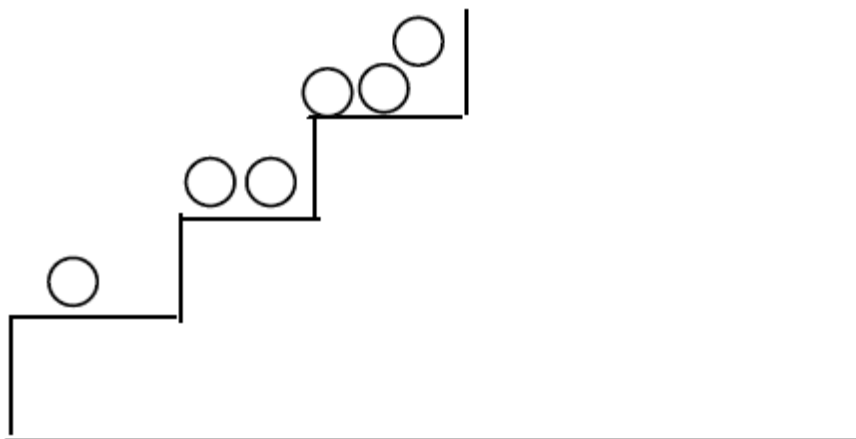
Le carré magique

| | | |
|---|---|---|
| 8 | | 6 |
| 3 | 5 | |
| | | 2 |

Le Petit Poucet

Le Petit Poucet s'amuse avec 36 cailloux. Il pose les 36 cailloux sur les marches d'un escalier.


Sur quel numéro de marche, le Petit Poucet va-t-il poser son dernier caillou ?




Les jetons

Placer les 12 jetons dans les 2 boîtes.

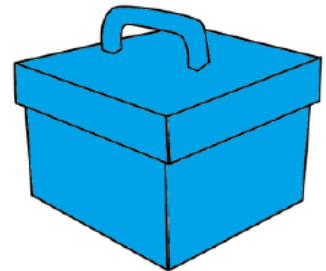
Il doit y avoir 2 jetons de plus dans la boîte rouge.



Une boîte rouge



12 jetons



Une boîte bleue