

Vendredi 9 juin

Calcul mental :

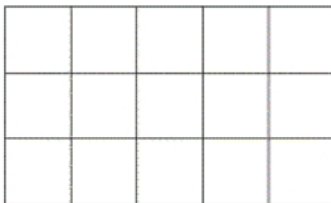
Autodictée :

Plan de travail :

Finir + bonus

Géométrie : notion d'aire

## Mesures d'aires




Un carreau mesure 1 cm de côté. Un carreau a pour aire 1 cm<sup>2</sup>.

Ce rectangle mesure 5 cm de longueur et 3 cm de largeur.

Pour calculer l'aire de ce rectangle, on multiplie la longueur par la largeur.

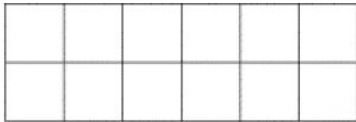
**Aire du rectangle : L x l**

$$5 \times 3 = 15 \text{ cm}^2.$$



Indique l'aire des figures suivantes, en laissant apparaître tes calculs.

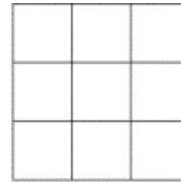
1)



Calculs : .....

**Aire : ..... cm<sup>2</sup>.**

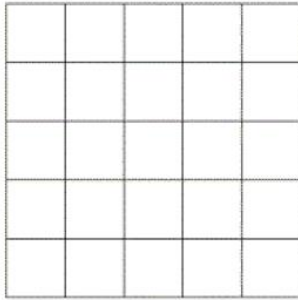
2)



Calculs : .....

**Aire : ..... cm<sup>2</sup>.**

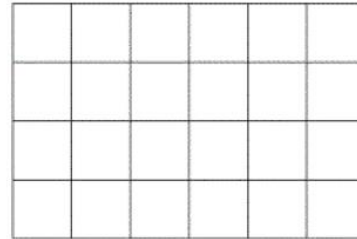
3)



Calculs : .....

**Aire : ..... cm<sup>2</sup>.**

4)

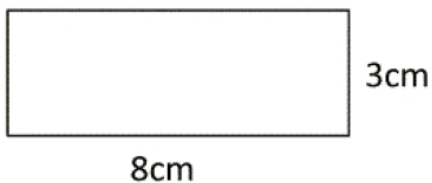


Calculs : .....

**Aire : ..... cm<sup>2</sup>.**

Indique l'aire des figures suivantes, en laissant apparaître tes calculs.

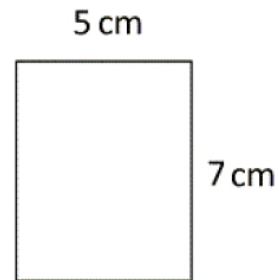
1)



Calculs : .....

**Aire : ..... cm<sup>2</sup>.**

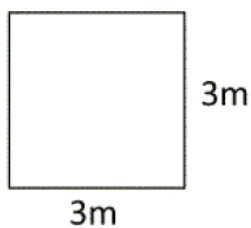
2)



Calculs : .....

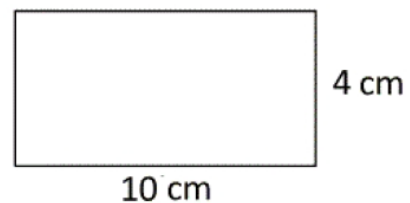
**Aire : ..... cm<sup>2</sup>.**

3)



Calculs : .....

4)



Calculs : .....