

Mardi 9 mars

Test des tables

Grammaire : le groupe nominal

La leçon

1. Dans ces phrases repère des GN, comment sont-ils composés ?

Le jeune garçon a les mains sales.

Le minuscule chaton s'agite.

Les belles feuilles orangées tombent.

Ce vieux fauteuil rouge est confortable.

Une petite haie traverse le champ verdoyant.

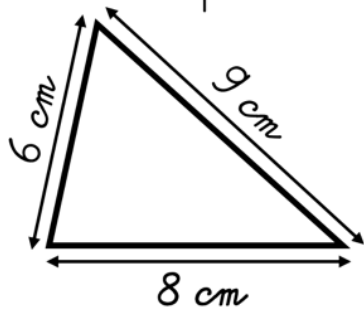
2. Recopie en remplaçant l'adjectif en gras par un CDN.

- L'air **montagnard** est très pur.
- Nous avons étudié les **hommes préhistoriques**.
- Le bus scolaire arrive bientôt.

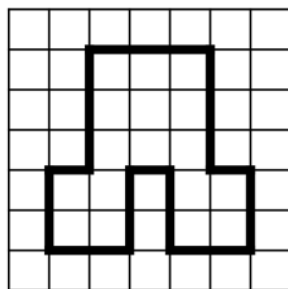
Mathématiques : le périmètre d'un polygone

Rappel définition périmètre

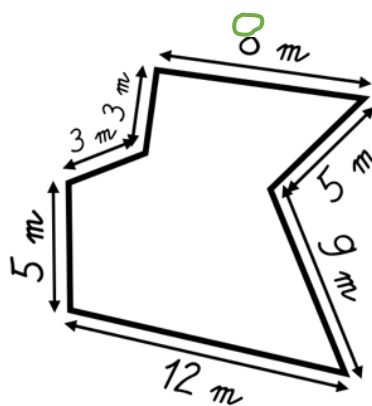
1. Calcule le périmètre de ces polygones.



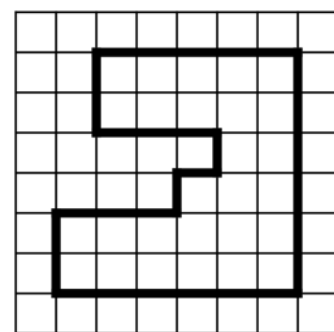
$P =$ _____
 $P =$ _____ cm



$P =$ _____
 $P =$ _____ carreaux



$P =$ _____
 $P =$ _____ m



$P =$ _____
 $P =$ _____ carreaux

2. Résous ce problème.

Mr Dussien clôture son jardin rectangulaire de 27 m de long et 16 m de large. Il laisse une ouverture de 5 m. Quel est le périmètre de sa clôture ?

Dictée préparée :

Avec mes parents, nous partions souvent sur des sentiers de marche. La randonnée n'était pas toujours bien indiquée. On marchait longtemps.