

Vendredi 8 octobre

Calcul mental :

Autodictée :

Plan de travail :

Prévoir fiche autonomie.

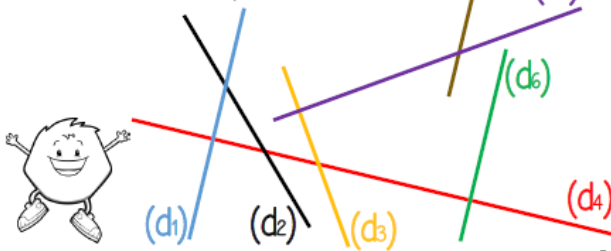
Géométrie : les droites perpendiculaires

Voir fiches :


Géométrie

CMI

① Coche la bonne réponse.

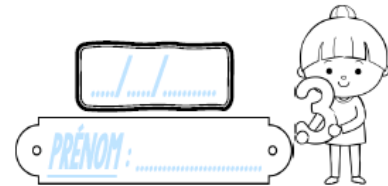
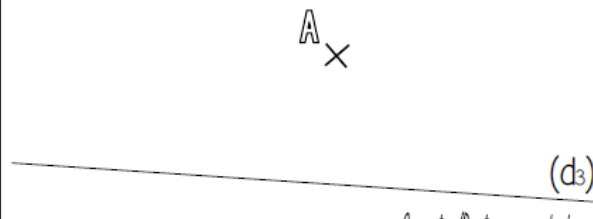


② Trace une droite (d₂) perpendiculaire à la droite (d₁).



1) (d1) est <u>perpendiculaire</u> à (d2).	<input type="radio"/> Vrai <input type="radio"/> Faux
2) (d1) est <u>perpendiculaire</u> à (d4).	<input type="radio"/> Vrai <input type="radio"/> Faux
3) (d3) et (d4) sont <u>perpendiculaires</u> entre elles.	<input type="radio"/> Vrai <input type="radio"/> Faux
4) Il n'y a pas de droite <u>perpendiculaire</u> à (d2).	<input type="radio"/> Vrai <input type="radio"/> Faux
5) (d3) et (d5) sont <u>perpendiculaires</u> entre elles.	<input type="radio"/> Vrai <input type="radio"/> Faux
6) (d4) est <u>perpendiculaire</u> à (d6).	<input type="radio"/> Vrai <input type="radio"/> Faux
7) Il n'y a pas de droite <u>perpendiculaire</u> à (d7).	<input type="radio"/> Vrai <input type="radio"/> Faux

③ Trace une droite (d₄) perpendiculaire à (d₃) et passant par le point A.



géométrie

