

Calcul mental :

Dictée :

Chaque soir, mon père recompte les moutons encore vivants. Notre troupeau disparaît à vue d'œil. Si ça continue ainsi, toutes nos bêtes vont mourir. Nous n'aurons plus de lait, plus de viande, plus de laine. Nous n'aurons plus rien pour vivre.

La nuit, je dors mal. Je sens mon père de plus en plus inquiet. J'entends ma mère pleurer discrètement. J'ai envie de les aider, de les rassurer tous les deux, mais je ne sais pas comment.

Plan de travail :

Géométrie :

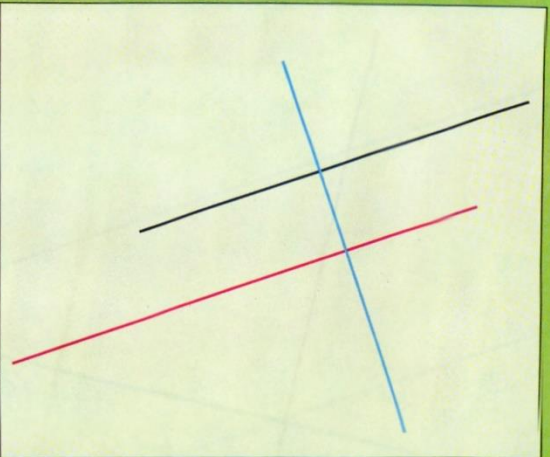
Evaluation

Je sais reconnaître et tracer des droites parallèles.

Choisis les affirmations qui sont exactes dans l'exercice 1 et réalise la construction demandée dans l'exercice 2.

- 1 a. Les droites noire et bleue sont parallèles.
- b. Les droites rouge et bleue sont perpendiculaires.
- c. La droite noire est parallèle à la droite rouge.
- d. La droite rouge est parallèle à la droite noire.
- e. Les droites noire et rouge sont perpendiculaires à la droite bleue.
- f. Les droites noire et rouge ne se coupent pas même si on les prolonge.
- g. L'écartement entre deux droites parallèles est toujours le même.

- 2 Sur une feuille unie, trace deux droites parallèles d et e distantes de 5 cm.



Prénom :

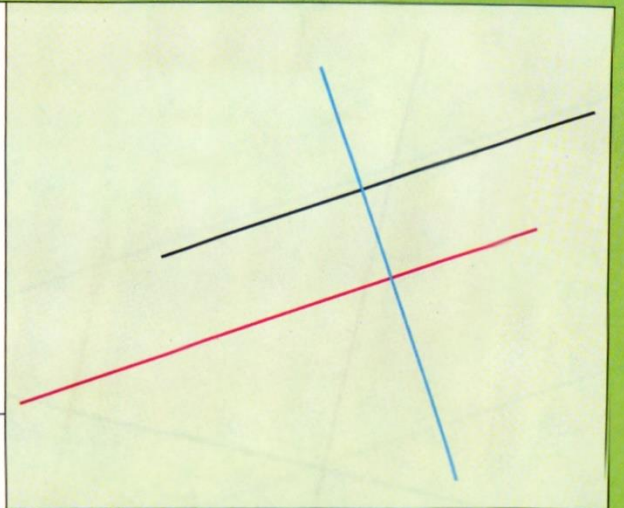
Date :

Je sais reconnaître et tracer des droites parallèles.

Choisis les affirmations qui sont exactes dans l'exercice 1 et réalise la construction demandée dans l'exercice 2.

- 1 a. Les droites noire et bleue sont parallèles.
- b. Les droites rouge et bleue sont perpendiculaires.
- c. La droite noire est parallèle à la droite rouge.
- d. La droite rouge est parallèle à la droite noire.
- e. Les droites noire et rouge sont perpendiculaires à la droite bleue.
- f. Les droites noire et rouge ne se coupent pas même si on les prolonge.
- g. L'écartement entre deux droites parallèles est toujours le même.

- 2 Sur une feuille unie, trace deux droites parallèles d et e distantes de 5 cm.



Prénom :

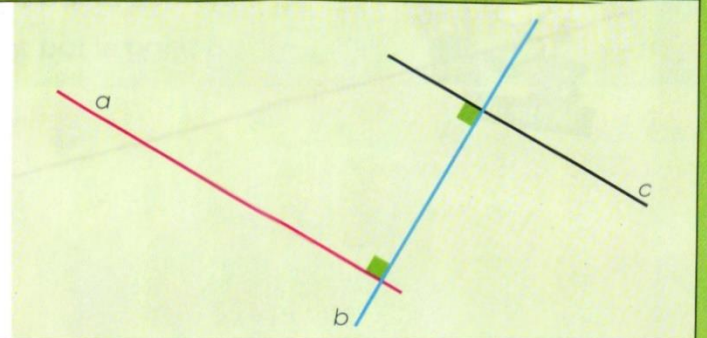
Date :

Je sais reconnaître et tracer des droites parallèles.




Choisis les affirmations qui sont exactes dans l'exercice 1 et réalise la construction demandée dans les exercices 2 et 3.

- 1 a. Les droites b et c sont parallèles.
b. Les droites a et c sont parallèles.
c. Les droites a et c sont perpendiculaires à la droite b .
d. L'écartement entre les droites a et c est toujours le même.



- 2 Reproduis une figure du même type que celle-ci. Trace la droite parallèle à la droite d et passant par le point A .



- 3 Reproduis une figure du même type que celle-ci. Trace la droite parallèle à la droite f et passant par le point B .

