

**Lundi 5 juin**

**Dictée de mots :**

Pour la semaine prochaine :

**Dictée de mots : liste n°32**

On apprend à écrire ces mots. On doit connaître leur(s) définition(s) et savoir les réutiliser dans une phrase.

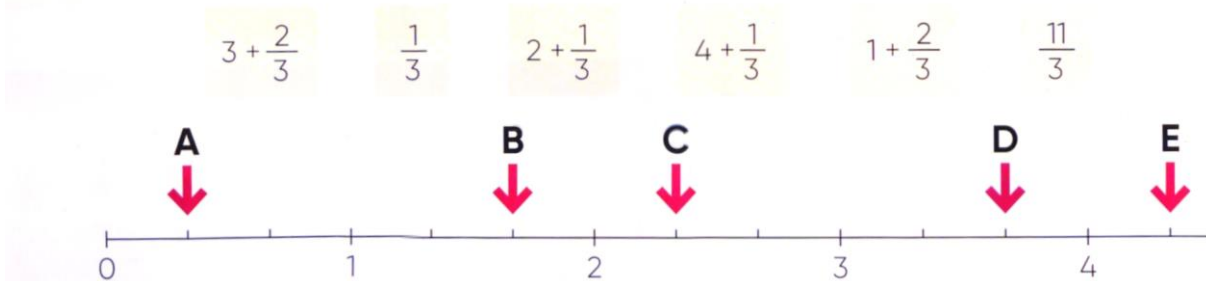
attaquer	aviser	bond	carrière	cité
consacrer	creuser	décéder	dehors	description
échantillon	embellir	enterrer	espérance	exactitude
fouetter	gazouillement	grippe	honorer	implorer

**Mathématiques : les fractions**

Décomposer (ou recomposer) puis placer sur une demi-droite graduée

**Exercice 1 (en groupe classe) sur ardoise :**

Associe les fractions aux lettres qui correspondent.  
Deux fractions peuvent correspondre à la même lettre.



**Exercice 2 (en individuelle après un exemple) :**

Quelles sont les fractions qui sont comprises

- a. entre 1 et 2 ?
- b. entre 2 et 3 ?
- a. entre 3 et 4 ?

$\frac{7}{3}$      $\frac{5}{3}$      $\frac{11}{3}$      $\frac{4}{3}$      $\frac{10}{3}$      $\frac{8}{3}$

**Plan de travail :**

**CM1 :**

Français : 4, 8, 5 p.40 et 41 + 10 p.83

Maths : 8, 9 p.35 + 5, 7 p.39

**CM2 :**

Français : 3, 5 p.43 + 1, 2 p.48

Maths : 7, 9, 10, 11 p.29

**Dictée dialoguée :**

Le chantier n'avait plus cet air de fête des premiers jours. Nous pataugions dans la boue et les gouttes d'eau nous dégouлинаient dessus.


**Résolution de problèmes :**

**Problème 1 :**

Dans l'immeuble de Louane, il y a 40 fenêtres.  
Elle a compté que  $\frac{3}{4}$  des fenêtres sont fermées.  
Combien de fenêtres sont ouvertes ?

**Problème 2 :**

Madame Gruda achète un four coutant 560€,  
une table valant le double du four, un réfrigérateur  
valant la moitié du four et quatre chaises.  
Pour l'ensemble, elle paie 2100€.  
Quel est le prix d'une chaise ?



**Problème 3 :**


Quentin avait 105 billes.  
Il en a perdu les deux septièmes.  
Combien lui reste-t-il de billes ?

**Histoire : évaluation seconde guerre mondiale**

Voir fiche

Dans l'immeuble de Louane, il y a 40 fenêtres.  
 Elle a compté que  $\frac{3}{4}$  des fenêtres sont fermées.  
**Combien de fenêtres sont ouvertes ?**

Madame Gruda achète un four coutant 560€,  
 une table valant le double du four, un réfrigérateur  
 valant la moitié du four et quatre chaises.  
 Pour l'ensemble, elle paie 2100€.  
**Quel est le prix d'une chaise ?**



Quentin avait 105 billes.  
 Il en a perdu les deux septièmes.  
**Combien lui reste-t-il de billes ?**

Associe les fractions aux lettres qui correspondent.  
 Deux fractions peuvent correspondre à la même lettre.

$$3 + \frac{2}{3}$$

$$\frac{1}{3}$$

$$2 + \frac{1}{3}$$

$$4 + \frac{1}{3}$$

$$1 + \frac{2}{3}$$

$$\frac{11}{3}$$

**A**  
↓

**B**  
↓

**C**  
↓

**D**  
↓

**E**  
↓



