

Vendredi 4 décembre

Calcul mental :

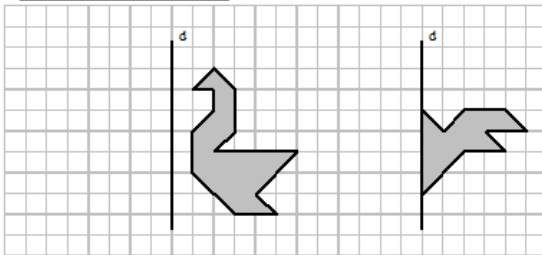
Autodictée :

Plan de travail : finir et demander de l'aide pour reprendre ce qui n'est pas compris.

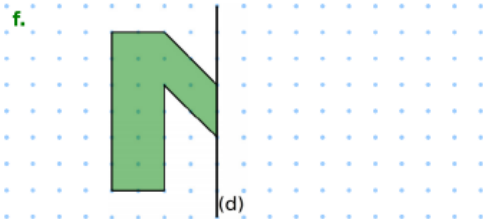
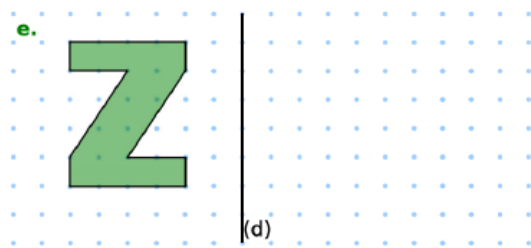
Géométrie :

Tracer une figure par symétrie axiale

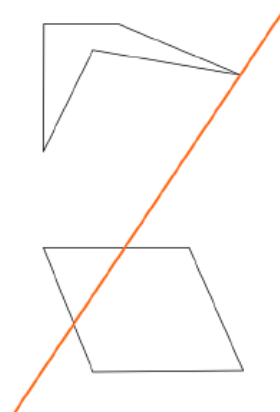
2- Reproduis par symétrie axiale



3- Reproduis par symétrie axiale



4- Reproduis par symétrie axiale en t'aidant de calque ou d'un compas.



Evaluation géométrie :

Sur une feuille blanche :

1. Trace un point A
2. Trace une droite (d) qui passe par A
3. Trace un segment [BC] de 5 cm.
4. Trace une droite (f) perpendiculaire à (d)
5. Trace une droite (g) parallèle à (d)