

Vendredi 25 septembre

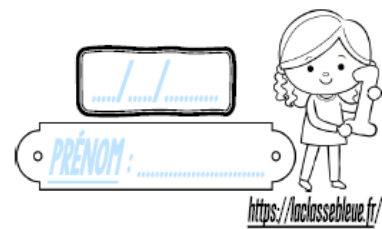
Calcul mental

Autodictée

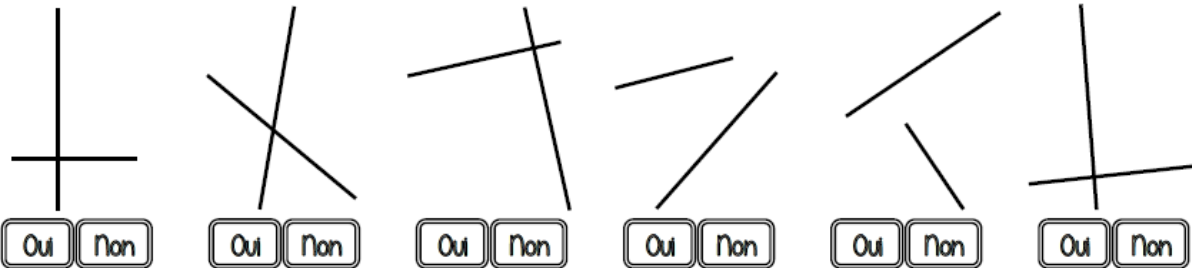
Plan de travail :

Géométrie :

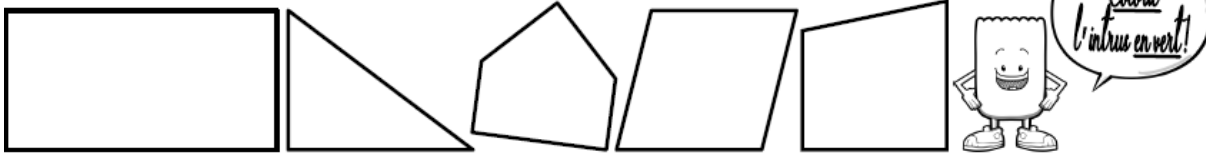
Géométrie (CMI)



① Les couples de droites sont-ils perpendiculaires ?



② Marque les angles droits de ces polygones en dessinant de petits carrés rouges.



③ Dans ton cahier, trace un carré de 7 carreaux de côté, puis marque ses angles droits en dessinant de petits carrés rouges.