

Lundi 25 mars

Dictée de mots

Pour la semaine prochaine :

Dictée de mots : liste n°24


On apprend à écrire ces mots. On doit connaître leur(s) définition(s) et savoir les réutiliser dans une phrase.

| | | | | |
|-----------|-----------|--------------|----------|-----------|
| chauffeur | cinquante | considérable | contrée | couvercle |
| cultiver | délicat | destinée | distrain | économie |
| état | facile | forger | garder | graver |
| histoire | irriter | lin | maternel | montrer |

Mathématiques :

1. Rappel leçon
2. Cherchons ensemble :

a. Cherche le plus possible de nombres différents que tu peux écrire en plaçant côte à côte ces quatre cartes. Tu dois toujours utiliser les quatre cartes.



b. Le chiffre 0 et la virgule sont-ils toujours utiles ?

c. Utilise les cartes pour donner l'écriture à virgule des nombres suivants.

$$6 + \frac{3}{100} \quad 3 + \frac{6}{10} \quad \frac{63}{100} \quad 3 + \frac{6}{100}$$

3. Entraînement :
Voir ci-dessous

Plan de travail :

CM1 :

Français : 3, 4, Défi langue p.31 + 3 p.77

Mathématiques : 5, 6, 7 p.31 + 1, 2 p.76

CM2 :

Français : 4, 5, Défi langue p.35 + 3 p.75

Mathématiques : 6, 7, 8, 9 p.25 + 1, 2, 3 p.90

Phrase du jour :

Au mois de mai, Le comité olympique français choisira les futurs porte-drapeaux.

Dictée noircie :

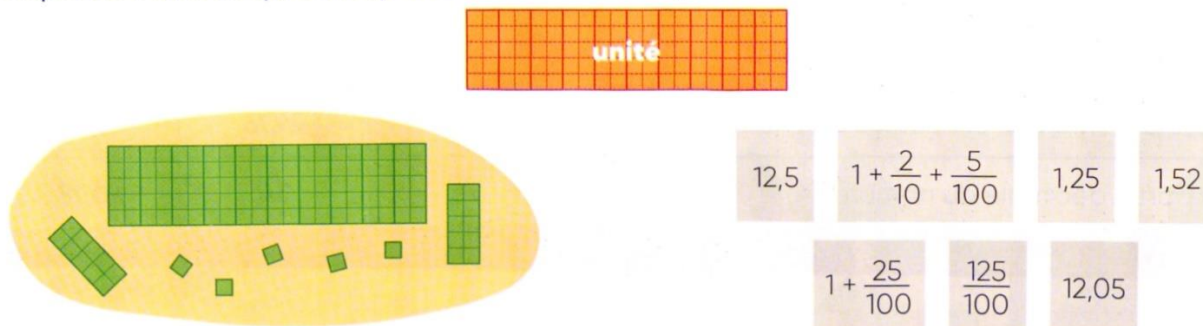
Au milieu des forêts sombres et humides on trouvait des monstres laids et poilus qui vivaient dans les cavernes.

Résolution de problèmes :


Voir ci-dessous

Sur ardoise :

Recopie les écritures qui correspondent au nombre représenté.



Cherche le plus possible d'écritures différentes du nombre placé au centre de la fleur.



Dans son cahier :

Donne l'écriture à virgule des nombres décimaux suivants.

- a. 5 unités et 7 dixièmes
- b. 8 unités et 4 dixièmes et 9 centièmes
- c. 4 centièmes
- d. 2 dizaines et 6 unités et 7 centièmes
- e. 239 unités et 5 dixièmes

Phrase du jour :

Au mois de mai, Le comité olympique français choisira les futurs porte-drapeaux.

Phrase du jour :

Au mois de mai, Le comité olympique français choisira les futurs porte-drapeaux.

Phrase du jour :

Au mois de mai, Le comité olympique français choisira les futurs porte-drapeaux.

Phrase du jour :

Au mois de mai, Le comité olympique français choisira les futurs porte-drapeaux.

Phrase du jour :

Au mois de mai, Le comité olympique français choisira les futurs porte-drapeaux.

Phrase du jour :

Au mois de mai, Le comité olympique français choisira les futurs porte-drapeaux.

Phrase du jour :

Au mois de mai, Le comité olympique français choisira les futurs porte-drapeaux.

Phrase du jour :

Au mois de mai, Le comité olympique français choisira les futurs porte-drapeaux.

Donne l'écriture à virgule des nombres décimaux suivants.

- a. 5 unités et 7 dixièmes
- b. 8 unités et 4 dixièmes et 9 centièmes
- c. 4 centièmes
- d. 2 dizaines et 6 unités et 7 centièmes
- e. 239 unités et 5 dixièmes

6 ★ Écris chaque nombre décimal comme somme d'un nombre entier et de fractions décimales.

$$37,092 = 37 + \frac{9}{100} + \frac{2}{1000}$$

- a. 3,6
- b. 45,08
- c. 0,07
- d. 1,004
- e. 54,908

7 ★ Associe les écritures qui désignent le même nombre.

- | | |
|---------------|---------|
| 4 dixièmes • | • 0,004 |
| 4 centaines • | • 0,4 |
| 4 unités • | • 40 |
| 4 centièmes • | • 4 |
| 4 milliers • | • 400 |
| 4 dizaines • | • 4000 |
| 4 millièmes • | • 0,04 |

8 ★★ Donne l'écriture décimale des nombres suivants.

- a. 2 unités 5 dixièmes et 8 centièmes
- b. 9 millièmes
- c. 63 unités et 4 dixièmes
- d. 4 dizaines 8 unités et 9 centièmes
- e. 7 centaines 2 unités et 5 centièmes
- f. 16 unités et 2 millièmes

Donne l'écriture à virgule des nombres décimaux suivants.

- a. 5 unités et 7 dixièmes
- b. 8 unités et 4 dixièmes et 9 centièmes
- c. 4 centièmes
- d. 2 dizaines et 6 unités et 7 centièmes
- e. 239 unités et 5 dixièmes

| | |
|---|--|
| <p>1.</p> <p>Un vélo électrique coute 2345€ dans le magasin Vélovert et 2679€ chez Monvélo. Le magasin Monvélo fait une remise de 350€ pour l'achat d'un vélo électrique.</p> <p>Dans quel magasin est-il plus intéressant d'acheter ce vélo ? Explique pourquoi. Quelle est la différence de prix ?</p> | <p>2.</p> <p>Le Stade de France à Paris peut accueillir 81338 spectateurs. Il peut accueillir 13944 spectateurs de plus que le stade Vélodrome à Marseille.</p> <p>Combien de spectateurs le stade Vélodrome peut-il accueillir ?</p> |
| <p>3.</p> <p>Un poulain pèse 138 kg. Il pèse 648 kg de moins que sa mère.</p> <p>Quel est le poids de la jument ?</p> | <p>4.</p> <p>Tom et Nina cueillent des fraises dans le jardin de leurs parents. Tom a cueilli 1,835 kg de fraises, il a cueilli 0,569 kg de moins que sa grande sœur.</p> <p>Quelle masse de fraises ont-ils cueillie en tout ?</p> |

| | |
|---|--|
| <p>1.</p> <p>Un vélo électrique coute 2345€ dans le magasin Vélovert et 2679€ chez Monvélo. Le magasin Monvélo fait une remise de 350€ pour l'achat d'un vélo électrique.</p> <p>Dans quel magasin est-il plus intéressant d'acheter ce vélo ? Explique pourquoi. Quelle est la différence de prix ?</p> | <p>2.</p> <p>Le Stade de France à Paris peut accueillir 81338 spectateurs. Il peut accueillir 13944 spectateurs de plus que le stade Vélodrome à Marseille.</p> <p>Combien de spectateurs le stade Vélodrome peut-il accueillir ?</p> |
| <p>3.</p> <p>Un poulain pèse 138 kg. Il pèse 648 kg de moins que sa mère.</p> <p>Quel est le poids de la jument ?</p> | <p>4.</p> <p>Tom et Nina cueillent des fraises dans le jardin de leurs parents. Tom a cueilli 1,835 kg de fraises, il a cueilli 0,569 kg de moins que sa grande sœur.</p> <p>Quelle masse de fraises ont-ils cueillie en tout ?</p> |

| | |
|---|--|
| <p>1.</p> <p>Un vélo électrique coute 2345€ dans le magasin Vélovert et 2679€ chez Monvélo. Le magasin Monvélo fait une remise de 350€ pour l'achat d'un vélo électrique.</p> <p>Dans quel magasin est-il plus intéressant d'acheter ce vélo ? Explique pourquoi. Quelle est la différence de prix ?</p> | <p>2.</p> <p>Le Stade de France à Paris peut accueillir 81338 spectateurs. Il peut accueillir 13944 spectateurs de plus que le stade Vélodrome à Marseille.</p> <p>Combien de spectateurs le stade Vélodrome peut-il accueillir ?</p> |
| <p>3.</p> <p>Un poulain pèse 138 kg. Il pèse 648 kg de moins que sa mère.</p> <p>Quel est le poids de la jument ?</p> | <p>4.</p> <p>Tom et Nina cueillent des fraises dans le jardin de leurs parents. Tom a cueilli 1,835 kg de fraises, il a cueilli 0,569 kg de moins que sa grande sœur.</p> <p>Quelle masse de fraises ont-ils cueillie en tout ?</p> |

| | |
|--|--|
| | |
|--|--|