

## Lundi 24 janvier

### Dictée de mots :

Pour la semaine prochaine :

#### **Dictée de mots : liste n°18**

On apprend à écrire ces mots. On doit connaître leur(s) définition(s) et savoir les réutiliser dans une phrase.

ravin	redire	remonter	repos	riz
sacrifice	secret	service	solitude	souris
témoin	ton	ventre	vouloir	agréablement
après	bavarder	bougie	brun	centime

### Grammaire

1. Relève dans ce texte, les COD, les COI et les compléments de phrase (CCL, CCM, CCT). Précise leur classe grammaticale (GN ou pronom ou groupe infinitif)

Au fond du jardin, il y a un énorme marronnier. Timmy et moi commençons à construire une magnifique cabane dans les branches. Cet après-midi, nous fabriquons le plancher, en clouant les larges planches sur deux branches.

2. Jeu : cadavre exquis

En respectant les structures données par le maître :

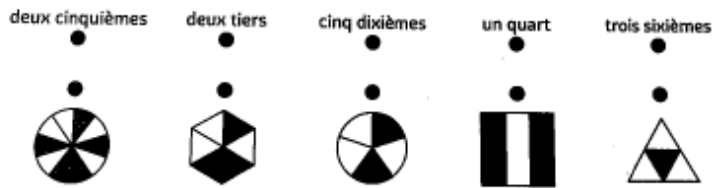
Par exemple : S + V + COD + CCL

### Mathématiques

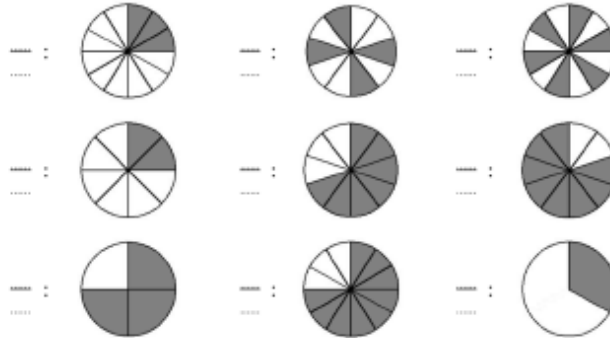
1. Qui suis-je ?
  - J'ai 25 milliers et 25 dizaines
  - J'ai 45 dizaines de milles et 45 centaines
  - J'ai 8 millions, 8 milliers et 8 unités

2. Les fractions (à retrouver dans la partie « pour photocopier »)

1- Relie la fraction et son nom.



2- Écris la fraction représentée par la partie grisée.



**Plan de travail**

CM1 :

Français : 5, 7 p.25 et 4 p.67

Mathématiques : 11, 12, 14 p.21 et 6 p.23

CM2 :

Français : 7, 8 p.25 et 2 et 3 p.71

Mathématiques : 12, 13, 15, 16 p.19

**Dictée frigo :**

Michel et Moustique n'auront pas le vertige. Ils circuleront là-dessus comme de vrais acrobates. Chaque soir, nous mesurerons la tour.

**Résolution de problèmes :**

**Problème 1 :**

Un avion vole à 9 500 m d'altitude puis passe à 10 700 m.

De combien de mètres s'est-il élevé ?

**Problème 2 :**

Un avion vole à 9 500 m d'altitude puis passe à 7 800 m.

De combien de mètres est-il descendu ?

**Problème 3 :**

Le champ de Monsieur André a une aire de 12,7 hectares. Celui de Monsieur Baptiste a une aire de 15,8 hectares.

Quelle est la différence de surface entre les deux champs ?

**Pour photocopier :**

1. Relève dans ce texte, les COD, les COI et les compléments de phrase (CCL, CCM, CCT).  
Précise leur classe grammaticale (GN ou pronom ou groupe infinitif)

Au fond du jardin, il y a un énorme marronnier. Timmy et moi commençons à construire une magnifique cabane dans les branches. Cet après-midi, nous fabriquons le plancher, en clouant les larges planches sur deux branches.

1. Relève dans ce texte, les COD, les COI et les compléments de phrase (CCL, CCM, CCT).  
Précise leur classe grammaticale (GN ou pronom ou groupe infinitif)

Au fond du jardin, il y a un énorme marronnier. Timmy et moi commençons à construire une magnifique cabane dans les branches. Cet après-midi, nous fabriquons le plancher, en clouant les larges planches sur deux branches.

1. Relève dans ce texte, les COD, les COI et les compléments de phrase (CCL, CCM, CCT).  
Précise leur classe grammaticale (GN ou pronom ou groupe infinitif)

Au fond du jardin, il y a un énorme marronnier. Timmy et moi commençons à construire une magnifique cabane dans les branches. Cet après-midi, nous fabriquons le plancher, en clouant les larges planches sur deux branches.

1. Relève dans ce texte, les COD, les COI et les compléments de phrase (CCL, CCM, CCT).  
Précise leur classe grammaticale (GN ou pronom ou groupe infinitif)

Au fond du jardin, il y a un énorme marronnier. Timmy et moi commençons à construire une magnifique cabane dans les branches. Cet après-midi, nous fabriquons le plancher, en clouant les larges planches sur deux branches.

1- Relie la fraction et son nom.

deux cinquièmes



deux tiers



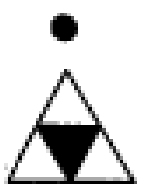
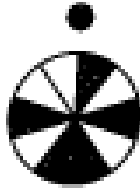
cinq dixièmes



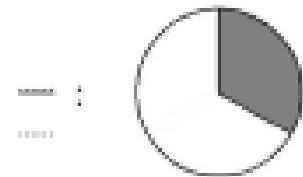
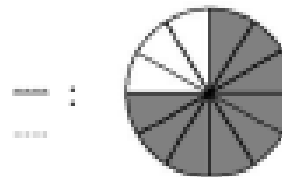
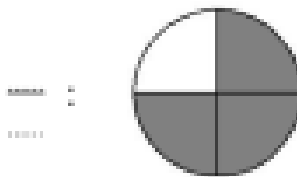
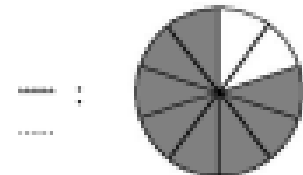
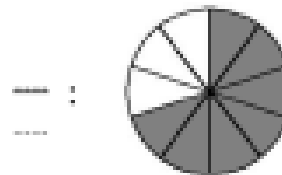
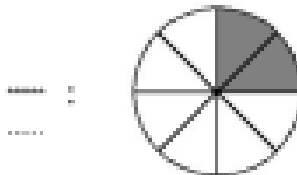
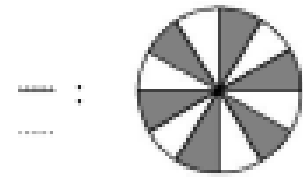
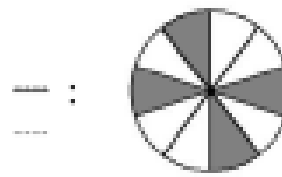
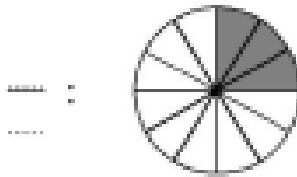
un quart



trois sixièmes



2- Écris la fraction représentée par la partie grisée.



Michel et Moustique n'auront pas le vertige. Ils circuleront là-dessus comme de vrais acrobates. Chaque soir, nous mesurerons la tour.

Niveau 1 :

Michel et Moustique n'auront pas le vertige. Ils circuleront là-dessus comme de vrais acrobates. Chaque soir, nous mesurerons la tour.

Michel n' \_\_\_\_\_ pas le vertige. \_\_\_\_\_ là-dessus comme \_\_\_\_\_. Chaque soir, il \_\_\_\_\_ la tour.

Niveau 2 :

Un vertige – circuler – dessus – un acrobate- chaque – mesurer

Niveau 3 :

Un vertige – circuler – chaque

Niveau 2 :

Un vertige – circuler – dessus – un acrobate- chaque – mesurer

Niveau 3 :

Un vertige – circuler – chaque

Niveau 2 :

Un vertige – circuler – dessus – un acrobate- chaque – mesurer

Niveau 3 :

Un vertige – circuler – chaque

