

Dictée de mots :

Pour la semaine prochaine :

Dictée de mots : liste n°26

On apprend à écrire ces mots. On doit connaître leur(s) définition(s) et savoir les réutiliser dans une phrase.

exemple	faciliter	fléau	frémir	haine
immobile	inviter	kilomètre	litière	marchander
membre	moqueur	nu	orphelin	patin
percher	plancher	portrait	programme	race

Plan de travail :

CM1 :

Français : 7 p.31 + 2, 4, 5 p.33

Maths : 8, 9 p.31 + 1, 2 p. 32


CM2 :

Français : 7, 8 p.35 + 3, 4 p.37

Maths : 10, 11, 12 p.25 + 1, 2 p.26

Mathématiques : les nombres décimaux

1. Rappel décomposer un nombre décimal
2. Je découvre :




Observons ensemble ces deux représentations, à quels nombres correspondent-elles ?
Comparer ces deux nombres.

3. Comparer des nombres décimaux

Une classe de CM1 a participé à une rencontre sportive.
Ce tableau présente les performances de 6 élèves au saut en longueur.

Prénom	Longueur du saut
Ali	2,08m
Charlotte	1,93m
Kenza	3m
Noa	2,57m
Marina	2,6m
Paul	2,14m

Range les élèves selon la longueur de leur saut par ordre croissant.
Tu peux utiliser la demi-droite graduée ci-dessous :



4. Distribuer Plan de travail spécial nombres décimaux

Dictée dialoguée :

L'espion crochète d'abord les serrures de l'appartement. Il se rend dans le bureau et feuillette des documents top secrets.

Résolution de problèmes :

CM1 :

Problème 1 :

Les stylos

Une directrice doit acheter 80 stylos pour les élèves de l'école. Elle hésite entre deux magasins.

LA MAISON DU STYLO
Le lot de 4 stylos
5€

LA LIBRAIRIE DES ARTS
Le lot de 5 stylos
6€

Dans quel magasin paiera-t-elle le moins cher ?

Problème 2 :

Sachant que 4 sucettes valent 2,42 €, combien valent

- a. 8 sucettes ?
- b. 2 sucettes ?
- c. 6 sucettes ?
- d. 14 sucettes ?

CM2 :

Problème 3 :

Avec 15 €, Tom a acheté 5 bracelets.

Quel est le prix de

- a. 8 bracelets ?
- b. 2 bracelets ?
- c. 13 bracelets ?

Problème 4 :

Les abricots

12 cagettes d'abricots pèsent 60 kg.


Quelle est la masse de 25 cagettes d'abricots ?

Une classe de CM1 a participé à une rencontre sportive.
Ce tableau présente les performances de 6 élèves au saut en longueur.

Prénom	Longueur du saut
Ali	2,08m
Charlotte	1,93m
Kenza	3m
Noa	2,57m
Marina	2,6m
Paul	2,14m

Range les élèves selon la longueur de leur saut par ordre croissant.

Tu peux utiliser la demi-droite graduée ci-dessous :



Les stylos

Une directrice doit acheter 80 stylos pour les élèves de l'école. Elle hésite entre deux magasins.

LA MAISON DU STYLO
Le lot de 4 stylos
5€

LA LIBRAIRIE DES ARTS
Le lot de 5 stylos
6€

Dans quel magasin paiera-t-elle le moins cher ?

Sachant que 4 sucettes valent 2,42€,
combien valent

- a. 8 sucettes ?
- b. 2 sucettes ?
- c. 6 sucettes ?
- d. 14 sucettes ?

Avec 15€, Tom a acheté 5 bracelets.

Quel est le prix de

- a. 8 bracelets ?
- b. 2 bracelets ?
- c. 13 bracelets ?

Les abricots

12 cagettes d'abricots pèsent 60 kg.

Quelle est la masse de 25 cagettes d'abricots ?