

Vendredi 18 novembre

Calcul mental :

A la maison, jouez sur calculatrice

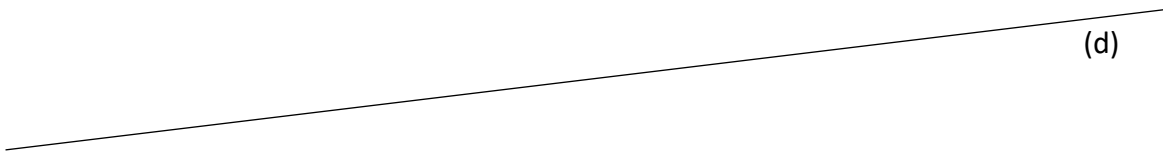
Autodictée :

Plan de travail :

Finir son plan de travail (retrouver les exercices dans le plan de travail de lundi)

Géométrie : les droites parallèles

1. Place 3 points à 3 cm de la droite (d) (du même côté de la droite)
2. Trace une droite passant par ces points
3. Cette nouvelle droite est parallèle à (d)



Reconnaitre des droites parallèles

3 a. À vue d'œil, dans quelles figures les paires de droites te semblent-elles parallèles?



b. Utilise les instruments de ton choix pour vérifier quand c'est nécessaire. Après vérification,

indique les figures dans lesquelles les droites sont parallèles.




figure 1

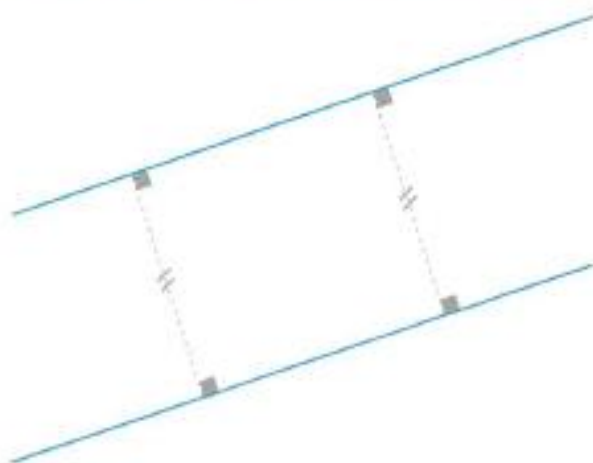


figure 2



figure 3

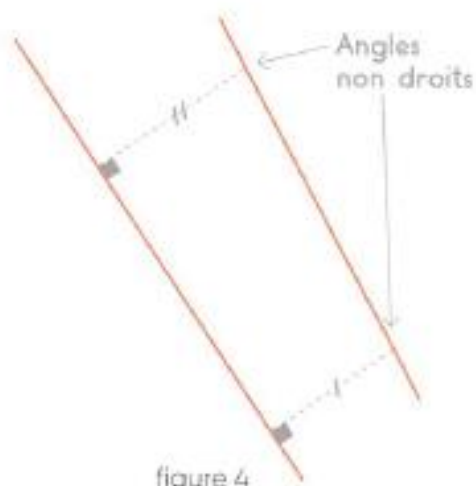


figure 4



figure 5



figure 6

5 ★★ La droite a et la droite b sont parallèles.
À quelle distance sont-elles l'une de l'autre ?

[Redacted]

