

## Lundi 13 novembre

Retour commémoration 11 novembre : voir photo

### Dictée de mots :

Pour la semaine prochaine :

#### **Dictée de mots : liste n°9**

On apprend à écrire ces mots. On doit connaître leur(s) définition(s) et savoir les réutiliser dans une phrase.

ronger	secourir	simple	sonner	sujet
tendrement	trimestre	volonté	aliment	avenue
bénédictio	bouteille	calme	chameau	clairon
cou	cultivateur	désireux	dos	enfermer

### Mathématiques : Les fractions : découverte

Comprendre ce que signifie un quart.

*Voir fiche ci-dessous*

### Plan de travail :

Prendre le temps de tout écrire et se corriger (moins de travail mais prendre plus le temps de faire)

#### CM1 :

Français : 2, 3 p. 16 et 17

Mathématiques : 5, 7, 8 p.15

#### CM2 :

Français : 1, 2 p 21

Mathématiques : 4, 5, 6 p.15

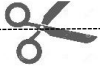
### Dictée concours :

Aujourd'hui, il existe des animaux étranges dans la jungle. Des animaux disparaissent mais grâce à des études nous découvrons de nouvelles espèces.

### Résolution problèmes

*Voir fiche ci-dessous*

**Voilà l'unité à découper :**



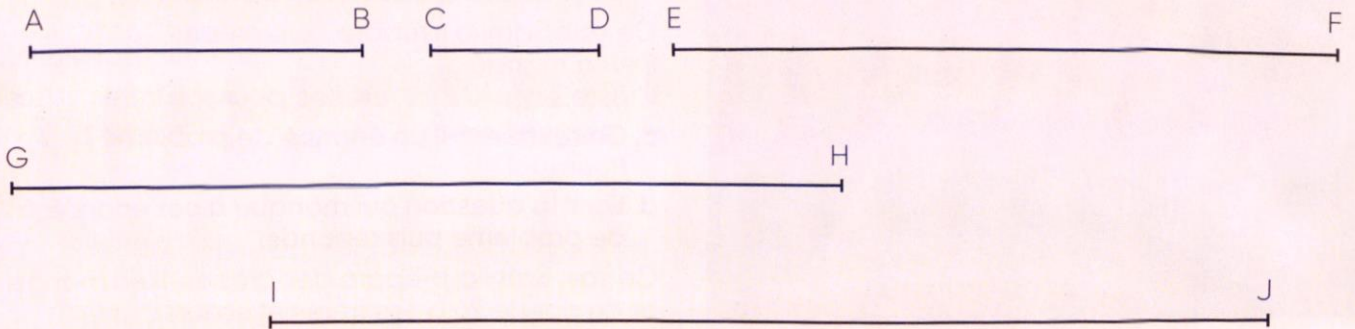

1. Mesure à l'aide de l'unité, le trait suivant :



Longueur à exprimer en unité :

2. Exercice :

Utilise la bande unité bleue pour mesurer la longueur des segments.



Trouve le segment dont la longueur est égale

- a. au quart de l'unité.
- b. à la moitié de l'unité.
- c. à une unité.
- d. à une unité plus la moitié de l'unité.
- e. à une unité plus un quart de l'unité.

Trace un segment [KL] dont la longueur est égale à deux unités plus un quart de l'unité.

3. Manipuler un demi, un quart, un tiers avec l'unité

4. Dictée de fraction

1.

Dans une boîte de chocolats, il y a 7 rangées de 5 chocolats et 4 rangées de 8 chocolats.

**Combien y a-t-il de chocolats dans la boîte ?**

2.

Le jardinier a planté 132 plants de salades. Il les a plantés en 12 rangées. Dans chaque rangée, il y a le même nombre de salades.

**Combien de salades a-t-il plantées dans chaque rangée ?**

3.

Une grenouille doit effectuer 25 sauts de 16 cm pour atteindre sa mare.

**Quelle distance la sépare de cette mare ?**

4.

Les élèves de la classe de CM2 se partagent 149 cahiers. Le professeur distribue 6 cahiers à chaque élève et il reste 11 cahiers.

**Combien y a-t-il d'élèves dans cette classe ?**



