

Vendredi 12 mai

Calcul mental :

Dictée :

Le soir tomba sur le fleuve : comme chaque nuit, le castor travailla à l'entretien de sa hutte. Il avait plu toute la journée et le toit était abîmé. Pour le réparer, le castor ramassa ou coupa des branches sur la rive et les emporta jusqu'à son abri, aménagé sur un petit îlot au milieu de la rivière.

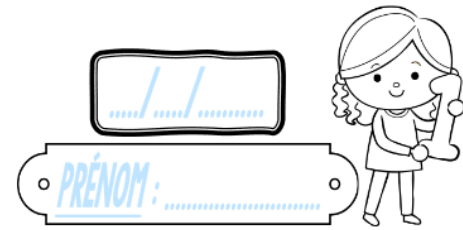
Plan de travail :

Finir + bonus


Géométrie : Des quadrilatères

Géométrie

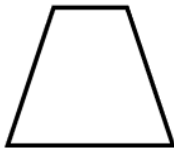
CMI




① Les figures sont-elles des parallélogrammes ?



Oui Non



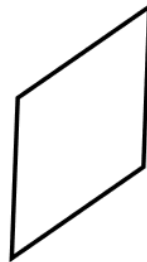
Oui Non



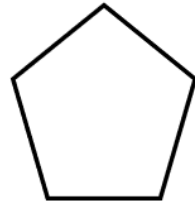
Oui Non




Oui Non



Oui Non



Oui Non



Oui Non

② Colorie de la bonne couleur.

<u>carré</u>	<u>rectangle</u>	<u>losange</u>
BLEU	VERT	JAUNE
<u>parallélogramme quelconque</u>		
ROUGE		


Gare à l'intrus!

③ Dans ton cahier, trace un carré ABCD dont les côtés mesurent 7 cm.

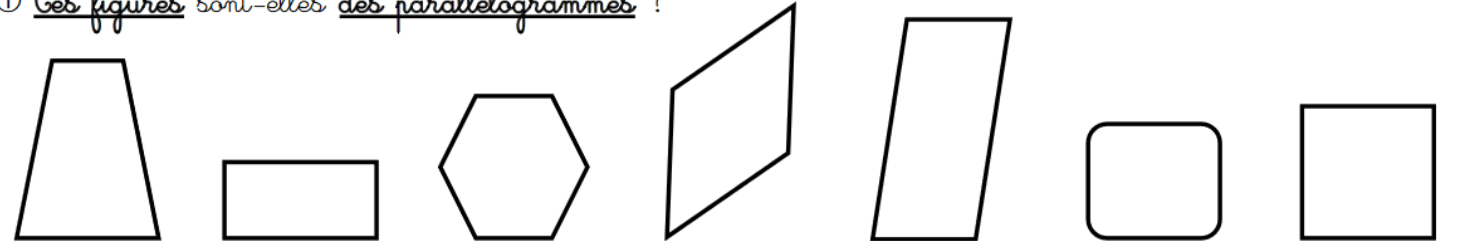
Geométrie

CM2

PRÉNOM :



① Ces figures sont-elles des parallélogrammes ?


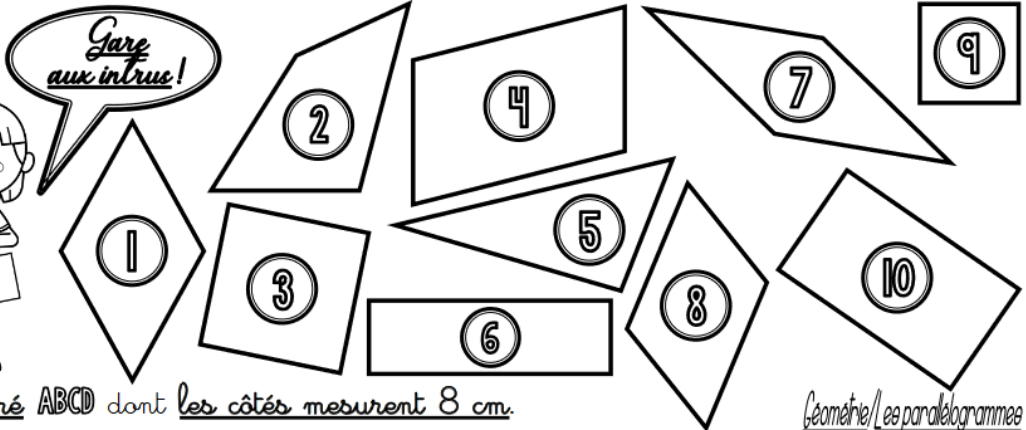


Oui Non Oui Non Oui Non Oui Non Oui Non Oui Non Oui Non

② Colorie de la bonne couleur.

Gare aux intrus!

<u>carré</u>	<u>rectangle</u>	<u>losange</u>
BLEU	VERT	JAUNE
<u>parallélogramme quelconque</u>		
ROUGE		

③ Dans ton cahier, trace un carré ABCD dont les côtés mesurent 8 cm.