

Des paysages de montagnes

Nom : _____

Date : _____



1 Une vallée dans les Alpes


Les montagnes jeunes comme les Alpes ou les Pyrénées ont des **sommets** ① élevés appelés pics ou aiguilles. Dans leurs **vallées** ② se sont construits villes et **villages** ③. Des **torrents** ④ descendent de la montagne. Pour passer d'une vallée à l'autre, la **route en lacets** ⑤ monte vers le **col** ⑥, passage élevé entre deux montagnes. Il reste quelques **troupeaux** ⑦ dans les pâturages et la **forêt** ⑧ pousse sur les pentes.

Pour accueillir les touristes, on a aménagé de nombreuses **stations de sports d'hiver** en installant des **remontées mécaniques** ⑨ et en construisant des logements et des hôtels.

Place les numéros sur le dessin

2 Les hautes montagnes ont des neiges qui ne fondent jamais et des **glaciers**, énormes fleuves de glace, qui avancent lentement et donnent naissance à des torrents.

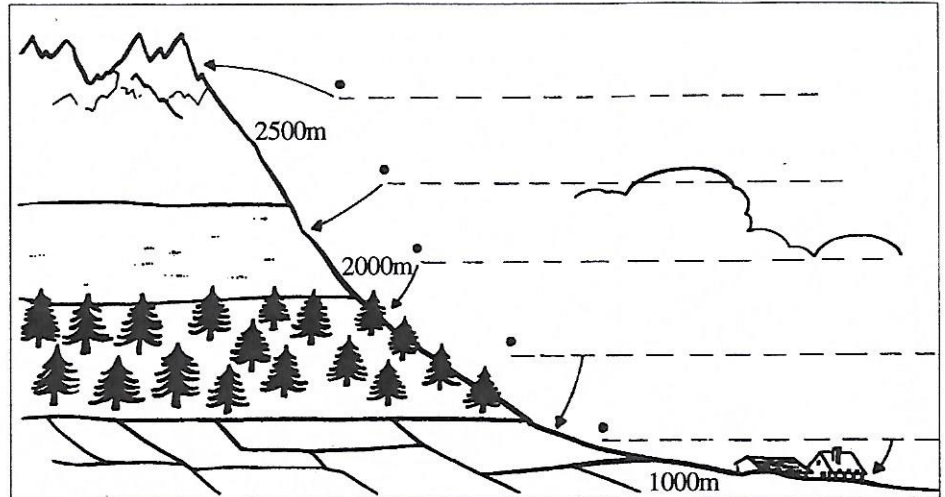
Colorie en bleu clair le glacier, en bleu foncé le torrent et en marron les montagnes environnantes.



3 Ce que l'on voit sur les pentes des montagnes

Écris où il faut :


forêts
alpages
habitations
neiges toute l'année
champs



4 Les sommets arrondis caractérisent les montagnes moyennes comme le Massif Central, le Jura, les Vosges et la Corse.

Colorie en vert les monts, en bleu les lacs, en jaune la route.

Écris en place sur le dessin : le sommet, le versant, la vallée.



5 Le relief de la France
Colorie la carte selon les indications de cette légende :

Vert	de 0 à 200m
Jaune	de 200m à 500m
Marron	Au dessus de 500m

6 Reconnais les montagnes en écrivant le numéro où il convient sur la carte :

- 1 Les Alpes
- 2 Les Pyrénées
- 3 Le Massif Central
- 4 Les Vosges
- 5 Le Jura

