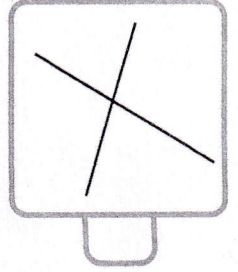

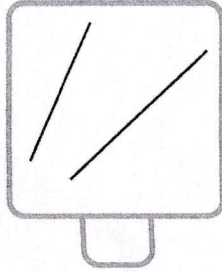
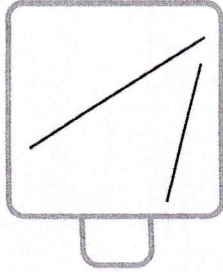
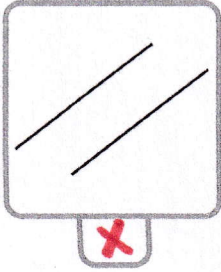
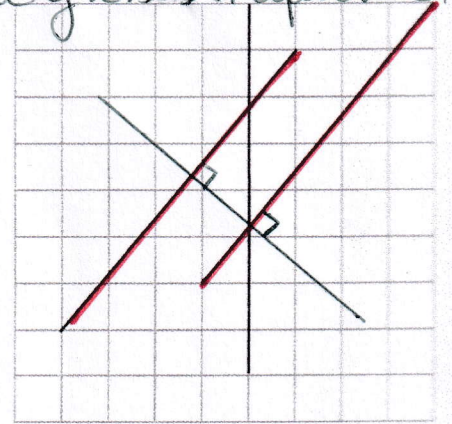
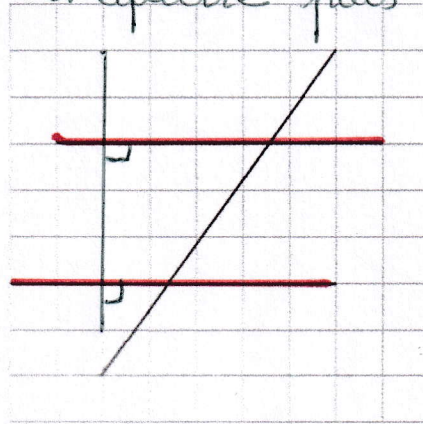
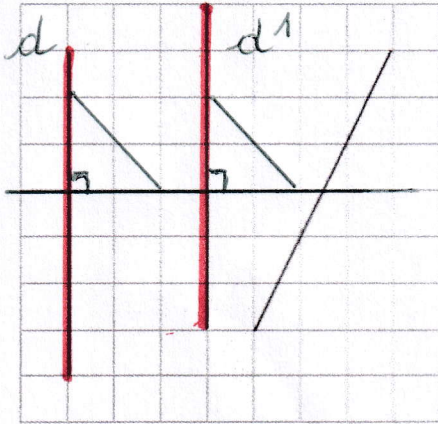


1 Coche sous les cases si les droites sont parallèles.



2 Repasse en rouge les droites parallèles.



*En poses l'équerre contre la droite d. En poses la règle contre l'équerre puis tu gisses l'équerre en d1.*

3 Lis les consignes et trace.

1. Trace une droite parallèle à la droite (a).
2. Trace une droite parallèle à la droite (b).
3. Trace une droite parallèle à la droite (c).

