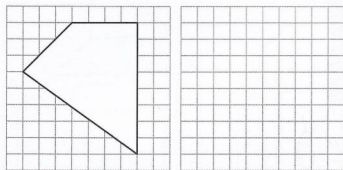
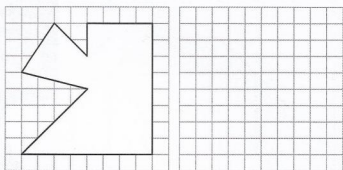


- 1 Reproduis les figures sur les quadrillages et précise de quel type de polygone il s'agit.

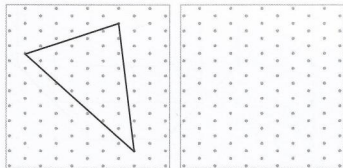


Il s'agit

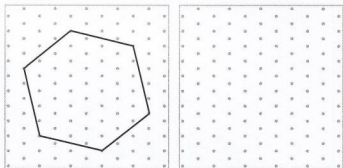


Il s'agit

- 2 Reproduis les figures sur le réseau de points et précise de quel type de polygone il s'agit.

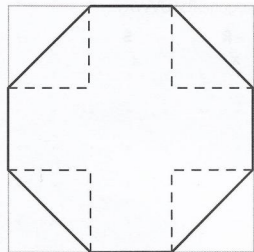


Il s'agit



Il s'agit

- 3 Observe la figure de gauche et reproduis-la dans le carré de droite. Colorie ensuite l'octogone dont les côtés sont en gras.



Observe bien le modèle !
Mesure les côtés et
marque des repères.

