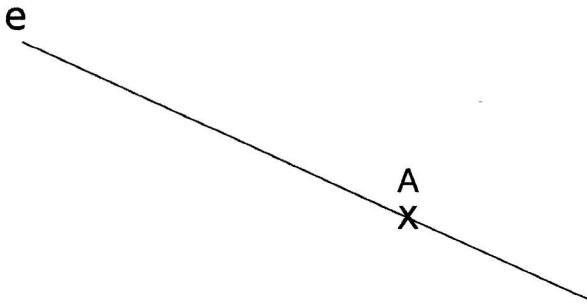


Nom:

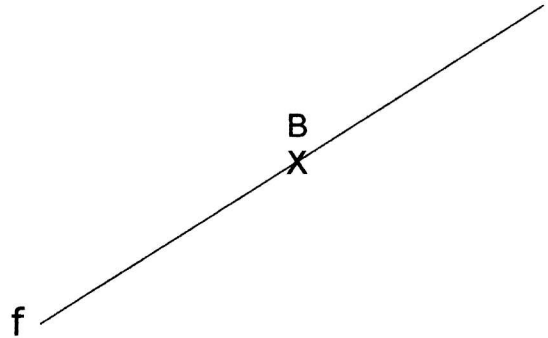
Date:

# Les droites perpendiculaires

1 Trace une droite perpendiculaire à la droite (e) passant par A.




2 Trace une droite perpendiculaire à la droite (f) passant par B.



3 Trace une droite perpendiculaire à la droite (g) passant par C.

C  
X



4 Trace une droite perpendiculaire à la droite (h) passant par D.



D  
X