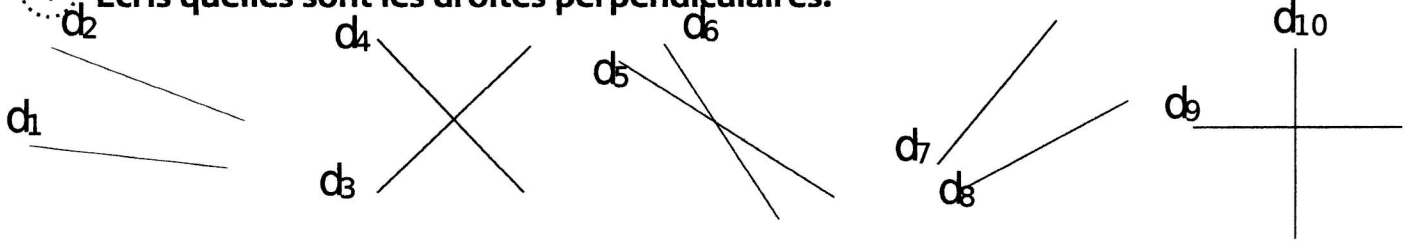


Nom:

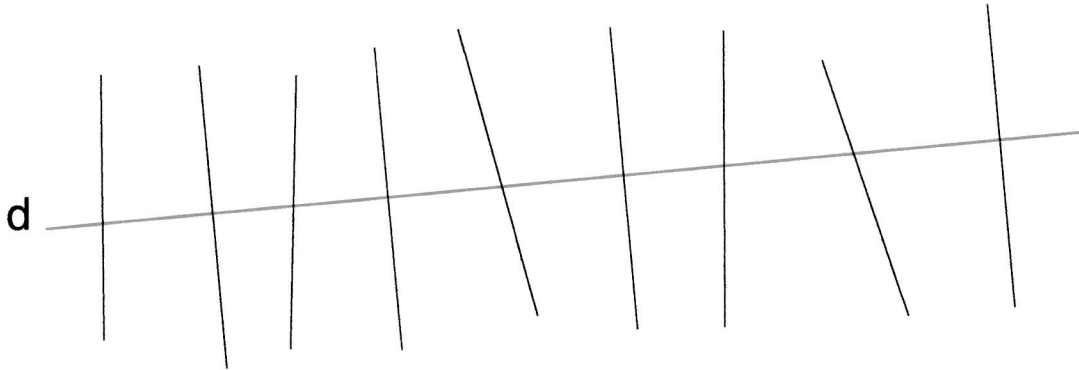
Date:

# Les droites perpendiculaires

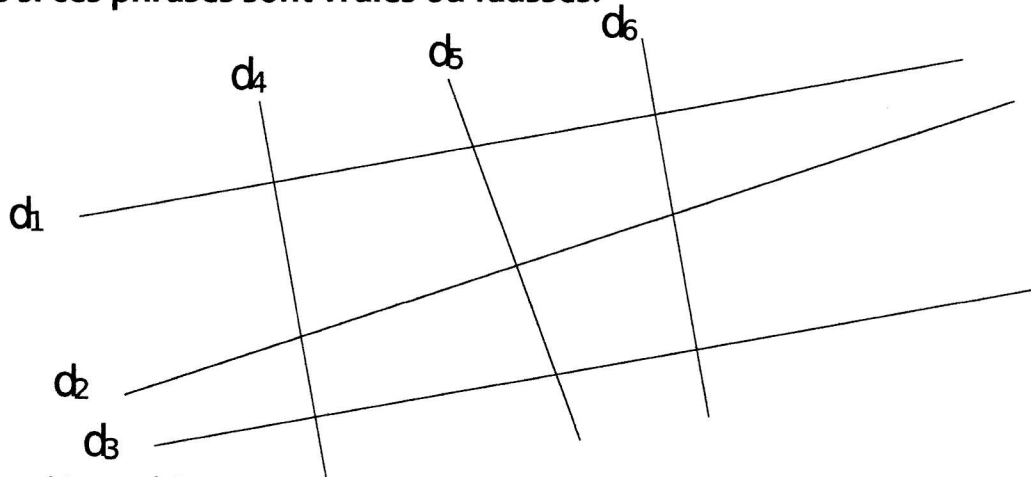
1 Écris quelles sont les droites perpendiculaires.



2 Repasse en bleu les droites qui sont perpendiculaires à la droite (d).



3 Écris si ces phrases sont vraies ou fausses.



Les droites (d1) et (d4) sont perpendiculaires.

Les droites (d1) et (d5) sont perpendiculaires.

Les droites (d3) et (d6) ne sont pas perpendiculaires.

Les droites (d2) et (d4) ne sont pas perpendiculaires.

Les droites (d1) et (d6) sont perpendiculaires.

Les droites (d2) et (d5) sont perpendiculaires.