

1 Relie d'un trait l'adjectif et le nom qu'il complète.



une	boisson	•	•	fondue
du	café	•	•	appétissante
un	citron	•	•	pressé
une	galette	•	•	brulant
la	glace	•	•	pétillante

2 Entoure tous les adjectifs qualificatifs et relie-les d'une flèche au nom qu'ils précisent.

Ma grand-mère cuisine de la bonne pâtisserie légère.

Mathéo mange une gaufre croustillante.

Mon dessert préféré est la crème anglaise vanillée avec des îles flottantes.

3 Sous chacun des mots soulignés écris s'il s'agit d'un nom ou d'un adjectif.

Maman casse des œufs et sépare les jaunes des blancs pour faire son gâteau.  
*nom...*

Mario porte des chaussettes jaunes.  
*adjectif*


Léonie utilise des œufs et bat les blancs en neige pour faire des îles flottantes.  
*nom*

Couverts de neige, les sapins blancs sont magnifiques.  
*adjectifs*

Je dois ranger ces nombres dans l'ordre croissant.  
*adjectif*


Le dimanche, Papa m'achète un croissant pour le petit déjeuner.  
*nom*

1. Écris les heures de ces horloges de deux manières différentes comme dans l'exemple.




5 h 40 min

6 heures moins vingt




...4... h ...4.5 min

5 heures moins le quart




...3... h ...50... min

3 heures moins dix




...6... h ...35... min

7 heures moins vingt-cinq




...11... h ...55... min

midi moins cinq




...2... h ...40... min

3 heures moins vingt



...10... h ...4.5 min

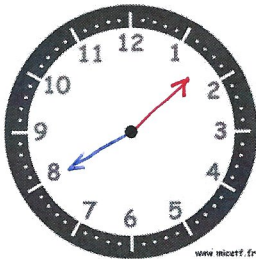
le quart



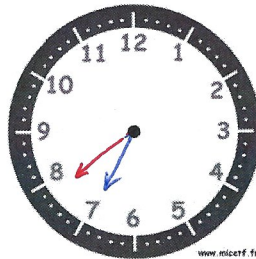
...4... h ...55... min

5 heures moins cinq


2. Place les aiguilles selon les heures indiquées.



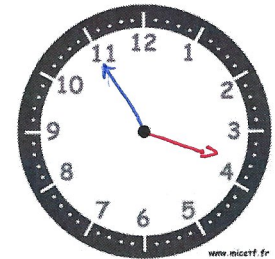
13 h 40 min



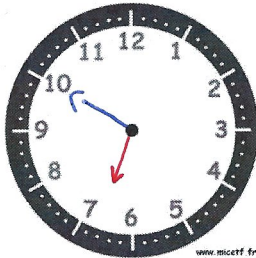
8 heures moins vingt-cinq



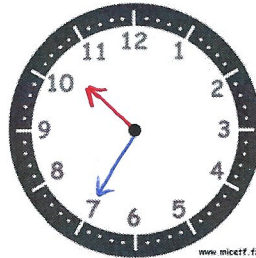
2 heures moins le quart



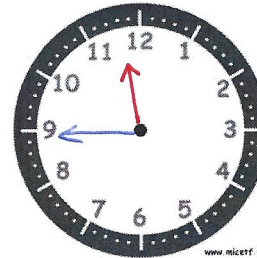
15 h 55 min




7 heures moins dix



22 h 35 min



Midi moins le quart



16 heures moins vingt