

MHM CE2 / CM1

Module 13

Séance 6

Activités ritualisées

CE2

Donner un encadrement  
pour les nombres :

545

181

CM1

Quelle heure est-il ?



Quelle sera-t-il dans une  
heure?



Activités ritualisées

CE2

Donner un encadrement  
pour les nombres :

545

181

CM1

Quelle heure est-il ?



Quelle sera-t-il dans une  
demi-heure?



Activités ritualisées

CE2

Donner un encadrement  
pour les nombres :

545

181

CM1

Quelle heure est-il ?



Quelle était-il il y a une  
demi-heure?




Calcul mental

CE2

CM1


# Jeu de la cible



Rouge = 1 000

Vert = 100

Bleu = 10



Rouge = 25

Vert = 15

Bleu = 10

Jaune = 5

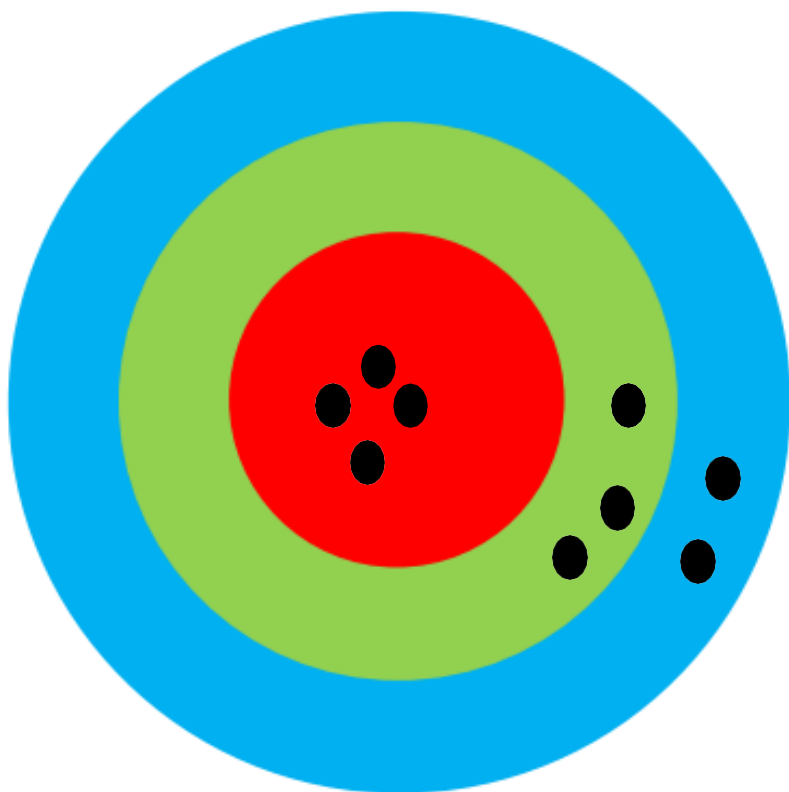


Calcul mental

CE2

CM1


## Jeu de la cible



Rouge = 1 000

Vert = 100

Bleu = 10



Rouge = 25

Vert = 15

Bleu = 10

Jaune = 5

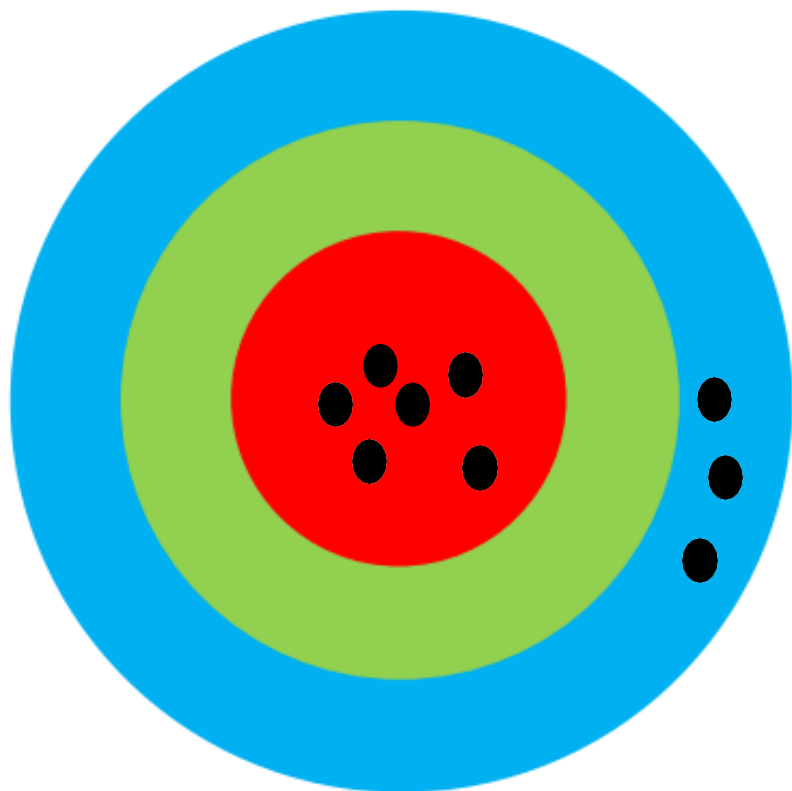


Calcul mental

CE2

CM1


## Jeu de la cible



Rouge = 1 000

Vert = 100

Bleu = 10



Rouge = 25

Vert = 15

Bleu = 10

Jaune = 5




Calcul mental

CE2

CM1


## Jeu de la cible



Rouge = 1 000

Vert = 100

Bleu = 10



Rouge = 25


Vert = 15

Bleu = 10

Jaune = 5





 **PROBLEMES CE2 (1)**

|    |    |    |    |    |    |    |    |    |    |
|----|----|----|----|----|----|----|----|----|----|
| 1  | 2  | 3  | 4  | 5  | 6  | 7  | 8  | 9  | 10 |
| 11 | 12 | 13 | 14 | 15 | 16 | 17 | 18 | 19 | 20 |
| 21 | 22 | 23 | 24 | 25 |    |    |    |    |    |

J'ai commandé un livre sur un site internet le lundi à 18h. Le site m'indique que je serai livré dans 35 heures.

**Quel jour et à quelle heure le livre va-t-il arriver ?**



Apprentissage

CE2

Poser et calculer :

$$38 \times 7 =$$

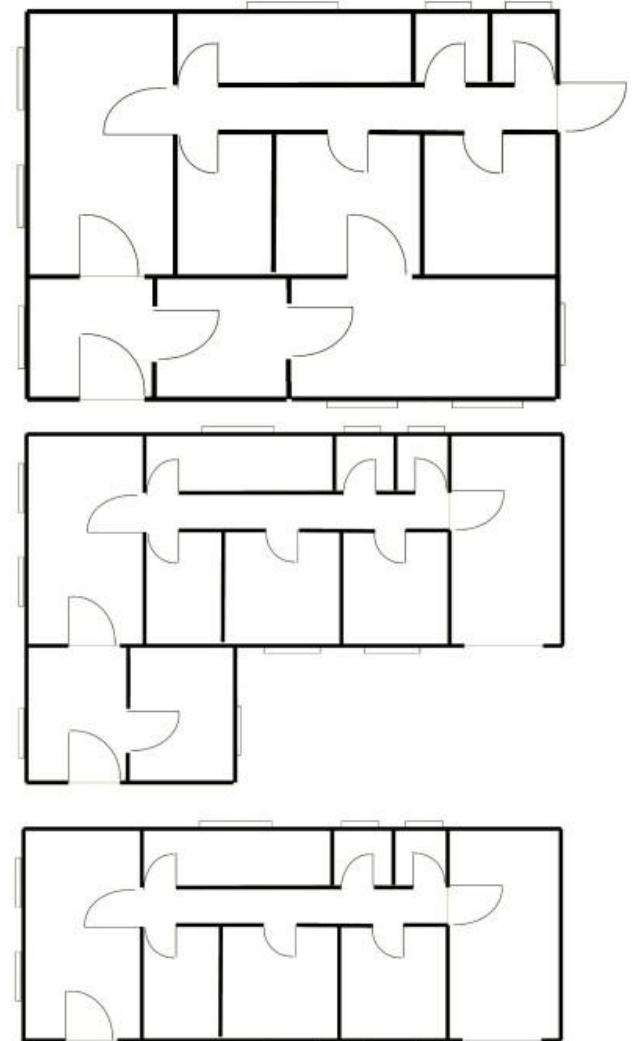
$$147 \times 5 =$$



CM1



Ranger les maisons de la plus petite à la plus grande.



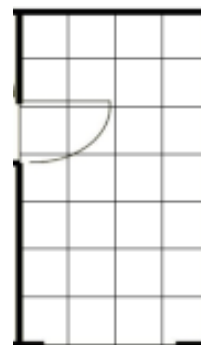
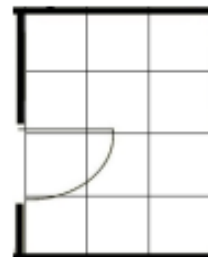
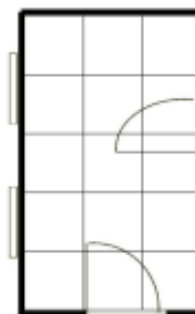
Apprentissage

CE2

CM1

**Problèmes : les Pièces de la maison**

Compte le nombre de carreaux de carrelage qu'il faut pour chaque pièce :



|   |                          |
|---|--------------------------|
|  | <h1>Carte au trésor</h1> |
|---|--------------------------|

|    |    |    |    |    |
|----|----|----|----|----|
| 1  | 2  | 3  | 4  | 5  |
| 6  | 7  | 8  | 9  | 10 |
| 11 | 12 | 13 | 14 | 15 |
| 16 | 17 | 18 | 19 | 20 |