

MHM CE2 / CM1

Module 13

Séance 4

Combien ces nombres
contiennent-ils de
dizaines ?

9 018



CM1

La fraction du jour (3)

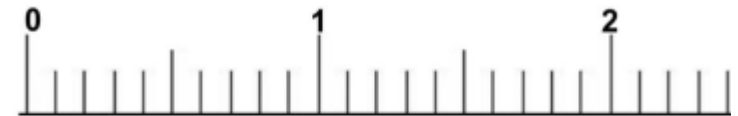
Représentation :



$$\frac{9}{10}$$



Place la fraction :



< ou > :

$$\frac{\quad}{\quad} \dots 1$$



Ecris deux décompositions
du nombre :

1 000



CM1

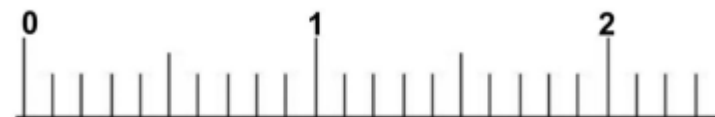
La fraction du jour (3)

Représentation :

$$\frac{9}{10}$$



Place la fraction :



< ou > :

$$\frac{\cdot}{\cdot} \dots 1$$



Exercices sur la monnaie

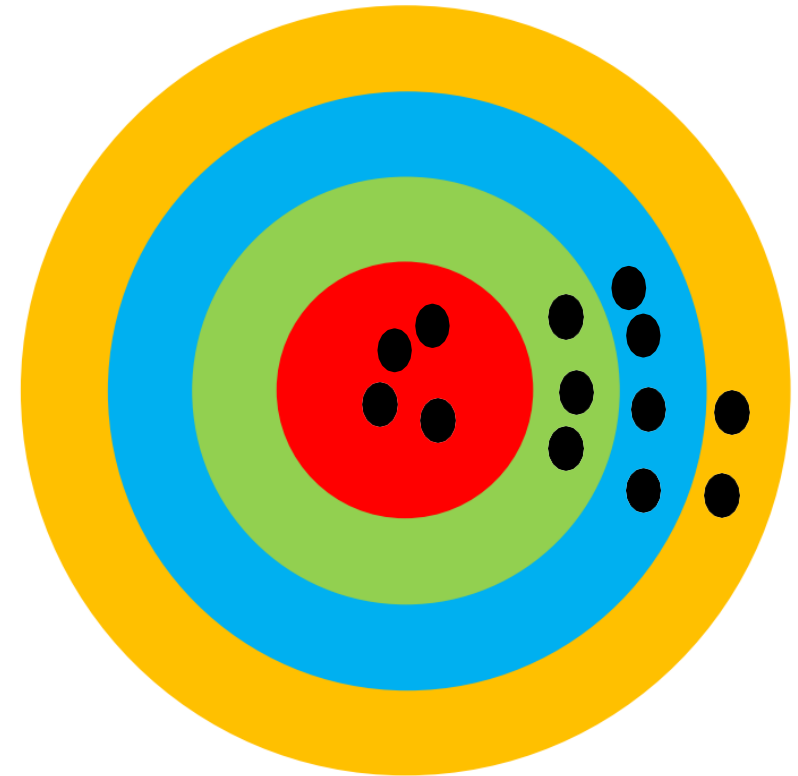
1/ Barre ce qui est en trop pour faire la somme demandée

	
7 € 50	5 € 50

2/ Dessine le moins de pièces et de billets possibles pour faire la somme demandée :

123€20	174€60

Jeu de la cible



Rouge = 25

Vert = 15

Bleu = 10

Jaune = 5



Calcul mental

CE2

Exercices sur la monnaie

1/ Barre ce qui est en trop pour faire la somme demandée


	
7 € 50	5 € 50

2/ Dessine le moins de pièces et de billets possibles pour faire la somme demandée :

123€20	174€60

CM1

Jeu de la cible



Faire 135

Rouge = 25

Vert = 15

Bleu = 10

Jaune = 5



Calcul mental

CE2

Exercices sur la monnaie

1/ Barre ce qui est en trop pour faire la somme demandée


	
7 € 50	5 € 50

2/ Dessine le moins de pièces et de billets possibles pour faire la somme demandée :

123€20	174€60
--------	--------

CM1

Jeu de la cible



Faire 290

Rouge = 25

Vert = 15

Bleu = 10


Jaune = 5



Dans la recette de crème au chocolat, il est écrit qu'il faut 150 g de chocolat pour faire 4 pots.

Combien de chocolat faut-il pour faire 12 pots ?



 **PROBLEMES CE2 (1)**

1	2	3	4	5	6	7	8	9	10
11	12	13	14	15	16	17	18	19	20
21	22	23	24	25					

Apprentissage

CE2

Créer un tableau pour noter les résultats des 12 chronomaths de l'année.

Noter les résultats des cinq premiers.

A faire sur une feuille blanche et glisser à la fin du cahier rouge de mathématiques.

CM1



483-108
822-391
606-52

14X3
27X2

58:3
75:6



342-286
729-503
450-72

68X9
125X6

725:6
964:5



672-233
987-423
503-47

75X12
85X26

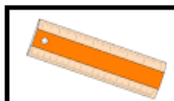
125:4
258:9



Apprentissage

CE2

Faire un exercice de chaque fichier.



Le traceur ★★★

1	2	3	4	5
6	7	8	9	10

27



LE GÉOMÈTRE ★★

1	2	3	4	5
6	7	8	9	10
11	12	13	14	15

38



TOUT-EN-ROND

1	2	3	4	5	
6	7	8	9	10	11

46

CM1



483-108
822-391
606-52

14X3
27X2

58:3
75:6



342-286
729-503
450-72

68X9
125X6

725:6
964:5



672-233
987-423
503-47

75X12
85X26

125:4
258:9

