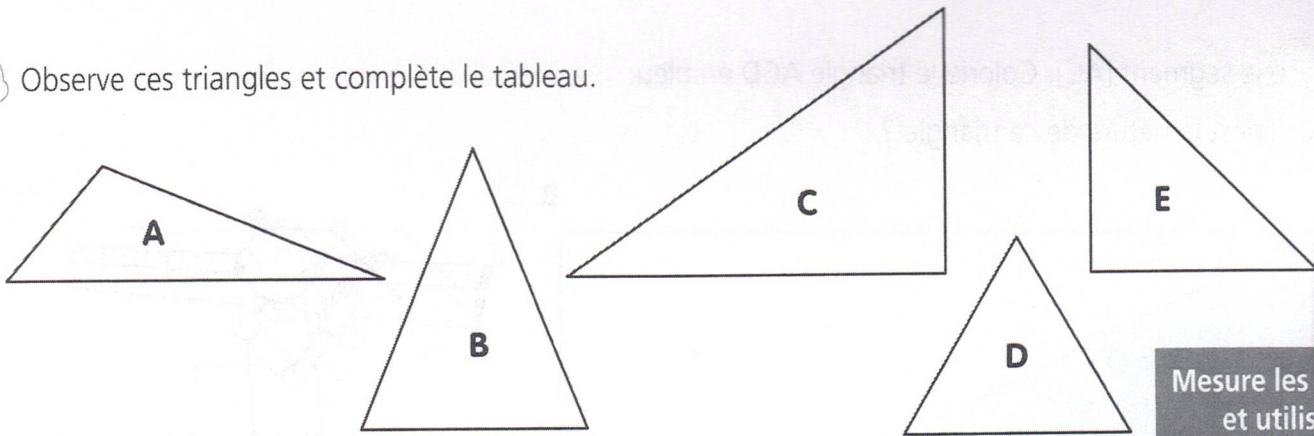


1 Observe ces triangles et complète le tableau.

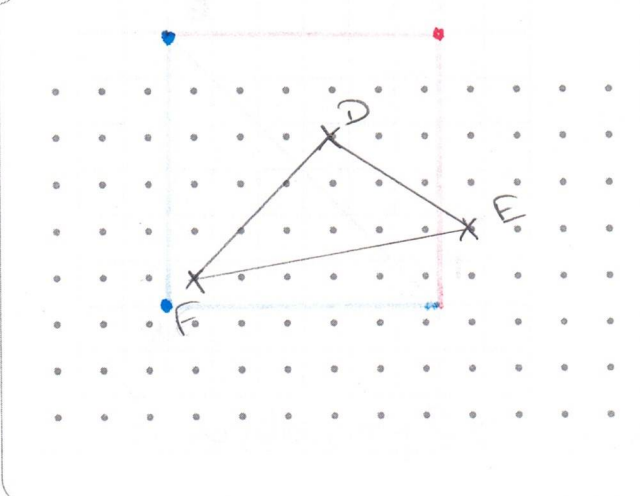


Mesure les côtés et utilise ton équerre pour les angles droits !

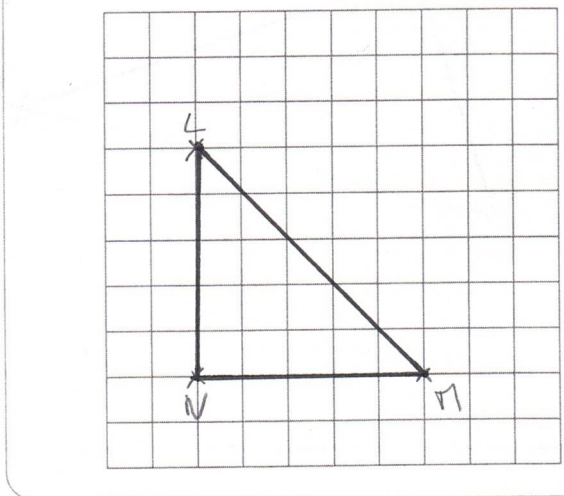
Triangles	Nombre de côtés de même mesure	Y a-t-il des angles droits ?		Nom du triangle
A	0	oui	<input checked="" type="radio"/> non	triangle quelconque
B	3	oui	<input checked="" type="radio"/> non	triangle équilatéral
C	0	<input checked="" type="radio"/> oui	non	triangle rectangle
D	3	oui	<input checked="" type="radio"/> non	triangle équilatéral
E	2	<input checked="" type="radio"/> oui	non	triangle isocèle rectangle




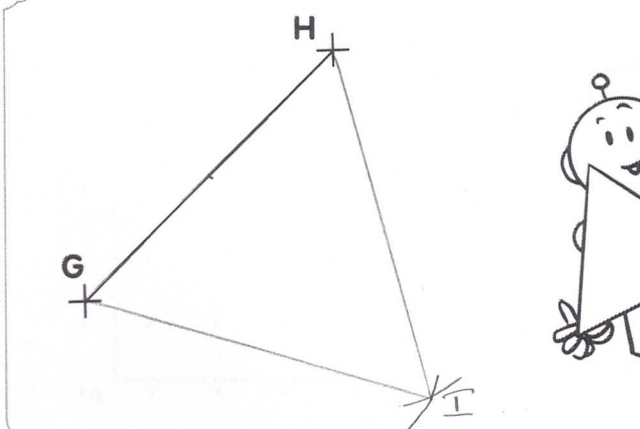
2 Trace un triangle quelconque DEF.



3 Trace un triangle rectangle LMN.

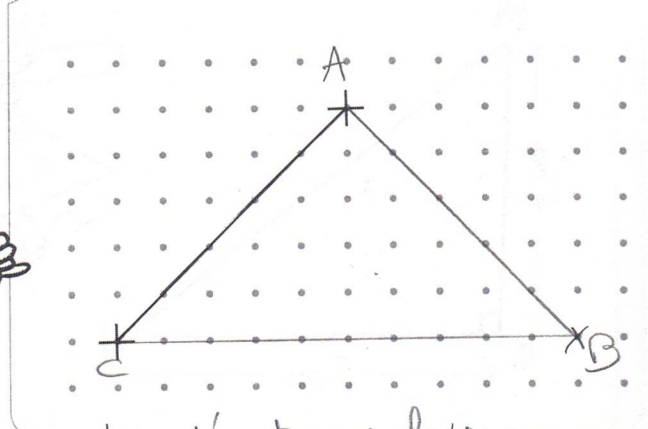


4 Trace un triangle équilatéral GHI.



↳ exercice à réaliser avec un compas

5 Trace un triangle isocèle ABC.



↳ d'autres solutions sont possibles.