


Ne pas imprimer

74 La soustraction pour calculer une différence

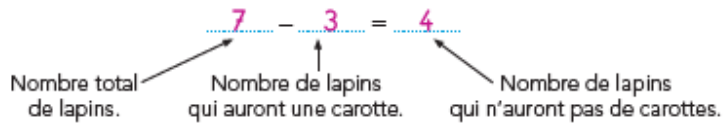
- Calcul mental**
- Groupes de 2, 5 et 10
 - Différence mentale (nombres → 10)



a. Complète. Il y a 7 lapins mais il n'y a que 3 carottes.



b. Complète et calcule la soustraction.



c. Vérifie que tu as calculé la différence (**relie et entoure**) et **écris** une « phrase solution ».

Quatre lapins n'auront pas de carotte.

a. Complète. Il y a 9 enfants mais il n'y a que 5 crayons.

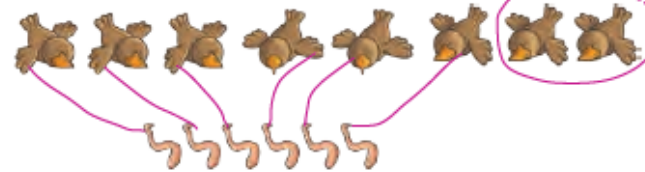


b. Écris, interprète et calcule la soustraction. 9 - 5 = 4

c. Vérifie (**relie et entoure**) et **écris** une « phrase solution ».

Quatre enfants n'auront pas de crayon.

a. Complète. Il y a 8 oiseaux mais il n'y a que 6 vers.



b. Écris, interprète et calcule la soustraction. 8 - 6 = 2

c. Vérifie (**relie et entoure**) et **écris** une « phrase solution ».

Deux oiseaux n'auront pas de vers.

Calcule en dessinant comme Dédé ou comme Picbille.

$$15 + 39$$



$$15 + 39 = 54$$

Complète.



Calcule.

$$5 + 6 = 11 \quad 3 + 5 = 8 \quad 7 + 7 = 14 \quad 5 + 8 = 13$$

$$9 + 9 = 18 \quad 8 + 8 = 16 \quad 7 + 5 = 12 \quad 9 + 5 = 14$$

Compare les longueurs de ces traits.

Le trait le plus long

est le vert.

