

86 Addition de 2 nombres à 2 chiffres (2)

Calcul mental

- Dictée de nombres ($60 \leq n \leq 79$)
- Additions mentales ($7 + n, 8 + n, 9 + n$)



vingt + trente = 50

L'écureuil renonce à compter.



Picbille calcule.

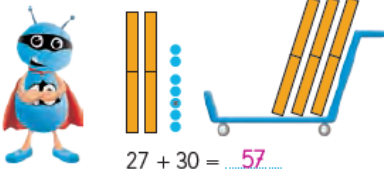


C'est 2 groupes de dix plus 3 groupes de dix. C'est...

Imagine les groupes de dix et écris la réponse en chiffres.

vingt + vingt = 40 quarante + vingt = 60 dix + quarante = 50
 trente + dix = 40 vingt + dix = 30 quarante + trente = 70
 soixante + dix = 70 cinquante + vingt = 70 trente + trente = 60

Picbille calcule
vingt-sept + trente.



$27 + 30 = \underline{57}$

Imagine les dizaines et les unités.

$14 + 20 = \underline{34}$
 $32 + 10 = \underline{42}$
 $28 + 40 = \underline{68}$
 $13 + 30 = \underline{43}$
 $25 + 30 = \underline{55}$
 $39 + 40 = \underline{79}$

Écris la table des moitiés.

$\begin{array}{c} 2 \\ \swarrow \searrow \\ 1 + 1 \end{array}$ $\begin{array}{c} 4 \\ \swarrow \searrow \\ 2 + 2 \end{array}$ $\begin{array}{c} 6 \\ \swarrow \searrow \\ 3 + 3 \end{array}$ $\begin{array}{c} 8 \\ \swarrow \searrow \\ 4 + 4 \end{array}$ $\begin{array}{c} 10 \\ \swarrow \searrow \\ 5 + 5 \end{array}$

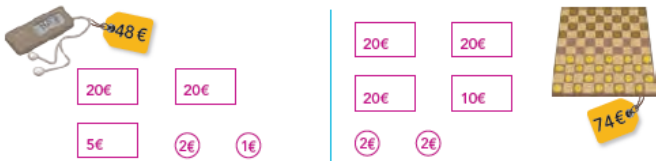
87 Problèmes pour apprendre à chercher

Calcul mental

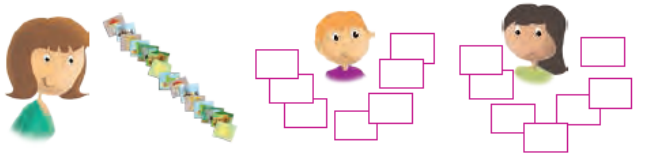
- Compteur en remplissant une planche « vide » ($n \leq 79$)
- Dictée de nombres ($60 \leq n \leq 79$)



Prends l'ensemble des pièces et des billets de ton matériel. Dessine avec le moins de billets et le moins de pièces possible.



Madame Bata a 15 images et elle veut les partager entre Louis et Amina. Dessine la part de chaque enfant. Combien d'images chacun aura-t-il ?

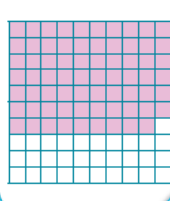


Chacun aura 7 images

Trouve 3 solutions.



Colorie 69 cases.




88 Ajouter 10, retrancher 10

Calcul mental

- Vingt + trente (somme ≤ 70)
- Dictée de nombres ($60 \leq n \leq 79$)



Imagine les groupes de dix et les jetons isolés et calcule.



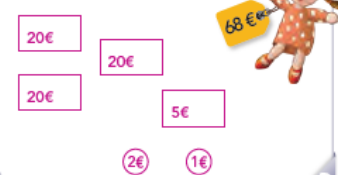
Complète.



Imagine les dizaines et les unités. Si tu n'es pas sûr(e), dessine.

$15 + 30 = \underline{45}$ $47 + 10 = \underline{57}$ $32 + 30 = \underline{62}$
 $36 + 20 = \underline{56}$ $28 + 50 = \underline{78}$ $28 + 20 = \underline{48}$

Dessine avec le moins de billets et de pièces possible.



Calcule.

$6 + 5 = \underline{11}$ $9 + 3 = \underline{12}$
 $9 + 9 = \underline{18}$ $5 + 9 = \underline{14}$
 $5 + 8 = \underline{13}$ $8 + 3 = \underline{11}$
 $6 + 7 = \underline{13}$ $8 + 4 = \underline{12}$

Correction Mathématiques

Semaine du 1er au 5 juin

Ne pas imprimer

Calcul mental : cf feuille de consignes CP