

Apprendre les mots de dictée de *la semaine 30* : durée (10 à 15 min).

→ mots de dictée

Rituels : durée (15 à 25 min)

→ Dictée flash : cliquez sur le lien et c'est parti ! dictée flash

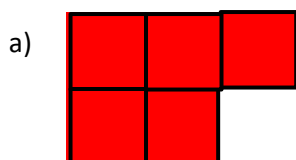
*Alban porte plainte contre ses voisins à cause du bruit.*

**Mathématiques : grandeurs et mesures (30 à 45 min)**

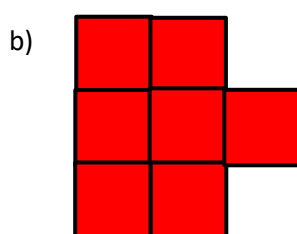
Jeudi 28 mai

Les aires


Exercice 1 : A l'aide de ton gabarit d' $1\text{cm}^2$ , mesure les surfaces des figures ci-dessous :



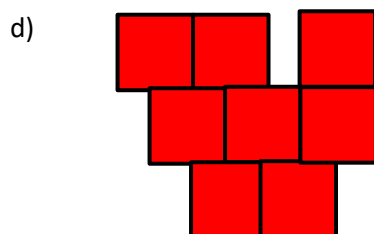
$5\text{cm}^2$




$7\text{cm}^2$



$8\text{cm}^2$



$8\text{cm}^2$



$7\text{cm}^2$ .

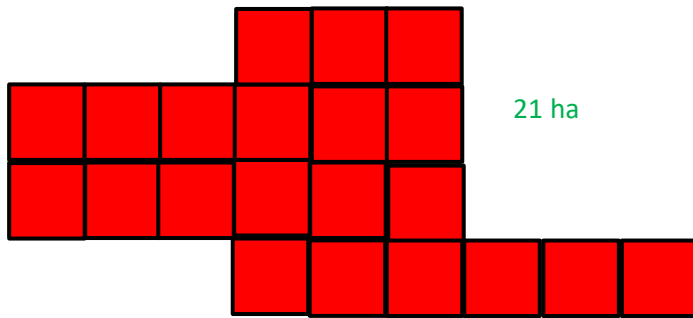
Le triangle rectangle isocèle est un demi-carré. Donc, deux triangles rectangles isocèles =  $1\text{cm}^2$

Exercice 2: Jacky veut acheter un champ pour mettre des vaches. Pour le même prix, on lui propose ces trois champs. Il veut le plus grand. Lequel va-t-il acheter ?

Comme ce sont des champs, on va prendre comme unité l'hectare. Un hectare, c'est un carré d'1hm (100m) de côté

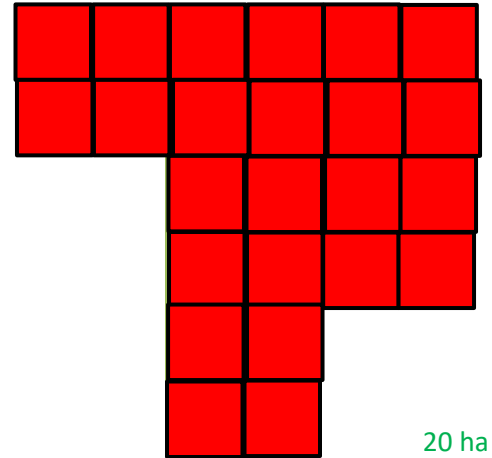
**Remarque : lorsqu'on parle de la surface, on ne dit pas  $hm^2$  (hectomètre carré) mais hectare (ha).**

a)




21 ha

b)



20 ha

c)

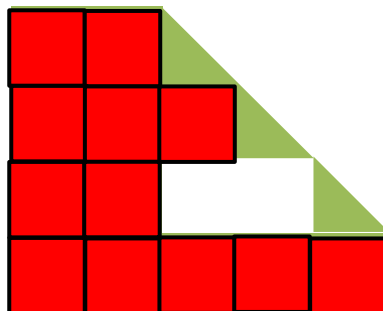


25 ha

*C'est la parcelle c qui est la plus grande.*

**Remarque : lorsqu'on parle de la surface, on ne dit pas  $hm^2$  (hectomètre carré) mais hectare (ha).**

**Exercice 3 : Quelle est l'aire de cette figure ?**



Cette figure peut contenir 12 carrés d'  $1cm^2$  et trois triangles rectangles isocèles d'1cm de côté. On a vu que les triangles rectangles isocèles sont des demi-carrés. Donc ces triangles valent  $0,5 cm^2$ .

$$12 cm^2 + 3 \times 0,5cm^2 = 12 cm^2 + 1,5cm^2 = 13,5 cm^2$$

L'aire de cette figure est de  $13,5cm^2$

## Histoire CM2 (30 min)

->Voici la correction des questions de la fiche activité :

**Mission 3: Pourquoi dit-on que François 1er est un roi bâtisseur et un protecteur des arts ?**

Où François 1<sup>er</sup> a-t-il découvert de nombreux artistes ? **EN ITALIE**

De qui collectionne-t-il les œuvres ? **DE VINCI – TITIEN – RAPHAEL...**

Que donne le roi aux artistes afin qu'ils restent en France ? **UN SALAIRE ROYAL**

Cite quelques artistes français s'étant inspirés du style de la Renaissance italienne ? **LESCOT – GOUJON – CLOUET ...**

→ Et la leçon :

### Comment se déroule la première guerre mondiale ?

La guerre commence à l'été 1914. Rapidement la guerre s'enlise. Les armées créent des tranchées depuis lesquelles elles attaquent l'ennemi. Les conditions de vie dans ses tranchées sont difficiles : on y est à l'étroit, à la merci du vent et de la pluie, les conditions d'hygiène sont déplorables. Les soldats ne peuvent guère se laver et se raser, c'est pourquoi on les appelle « les poilus ».

En 1917, avec l'entrée en guerre auprès de la France et du Royaume-Uni des Etats-Unis, tout s'accélère. L'Allemagne est forcée de capituler et l'armistice est signée le 11 novembre 1918.

### Lexique :

**Tranchée** : fossé très allongé où les soldats vivaient pendant la guerre.

**Poilu** : surnom affectueux donné aux soldats français de 1914-1918.

**Armistice** : accord entre des ennemis pour arrêter les combats.

**Capituler** : se rendre, reconnaître sa défaite