





Numération

1 Ecris ces nombres en lettres.






--	--	--	--	--	--	--	--	--	--	--	--	--	--	--	--



--	--	--	--	--	--	--	--	--	--	--	--	--	--	--	--

2 Entoure le nombre de perles demandées par Robotine.



3 Combien de perles à Tirobot ? Ecris le bon nombre.

100 10 1 10 1


1 1 10 100

100 100 100

centaines

dizaines

unités



4 Complète le tableau comme le modèle.


245	2 centaines, 4 dizaines et 5 unités	$100 + 100 + 40 + 5$
362		
		$100 + 100 + 100 + 100 + 70 + 9$




Numération

Fiche 20

1 Ecris ces nombres en lettres.


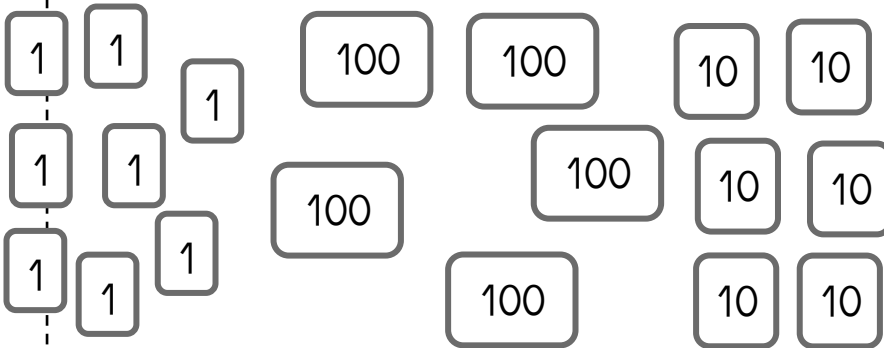


--	--	--	--	--	--	--	--	--	--	--	--	--



--	--	--	--	--	--	--	--	--	--	--	--	--

2 Ecris le nombre de perles de Tirobot.



3 Ecris les nombres de 132 à 144

--	--	--	--	--	--	--	--	--	--	--	--	--

4 Ecris ces nombres en chiffres.

trois-cent-dix







--	--

quatre-cent-cinquante

--	--

5 Range les nombres du plus petit au plus grand.

240 - 450 - 130 - 800 - 470 - 790






Numération

Fiche 21

1 Écris ces nombres en lettres .



--	--	--	--	--	--	--	--	--	--



--	--	--	--	--	--	--	--	--	--

2 Écris ces nombres en chiffres.

huit-cent-trente

--	--

neuf-cent-quarante

--	--

3 Écris les nombres de 351 à 363 .

--	--	--	--	--	--	--	--	--	--	--	--	--

4 Écris le nombre avant et le nombre après.

214

356

732







621

403

895

5 Range les nombres du plus grand au plus petit.

567 - 561 - 129 - 429 - 959 - 641





Numération


Fiche 22

1 Ecris les nombres de 428 à 440.

--	--	--	--	--	--	--	--	--	--	--	--	--

2 Ecris le nombre avant et le nombre après.


	459			981			519	
	531			608			727	



3 Entoure en rouge le plus grand des 2 nombres de chaque étiquette.
Compare les nombres en utilisant le signe < ou le signe >

324 ... 356	840 ... 640	879 ... 809	900 ... 500
567 ... 641	630 ... 350	241 ... 801	190 ... 900

4 Relie chaque nombre à son étiquette.



- 4 centaines et 3 dizaines
- 4 dizaines et 3 centaines
- 3 dizaines et 4 unités
- 4 unités et 3 centaines

- 304
- 34
- 340
- 430



Numération

Fiche 23


1 Ecris les nombres en comptant de 1 en 1.

345

962

587

2 Ecris le nombre avant et le nombre après.



499

299

799

3 Compare les nombres en utilisant le signe < ou le signe >

825 ... 598

196 ... 198

245 ... 504

726 ... 229


109 ... 107

569 ... 579

504 ... 500

904 ... 899

4 Relie chaque nombre à son étiquette.



5 dizaines et 3 centaines

5 unités et 3 centaines

3 dizaines et 5 unités

5 centaines et 3 unités

503

35

350

305




Numération


1 Ecris le nombre sur la carte de Girobot.

325

2 Dessine le bon nombre de centaines, dizaines et unités.



Large dashed box for drawing the number 325 using blocks.



Large dashed box for drawing the number 420 using blocks.

3 Complète les suites en comptant de 1 en 1

140 ○ ○ ○ ○ ○

451 ○ ○ ○ ○ ○

258 ○ ○ ○ ○ ○

507 ○ ○ ○ ○ ○

385 ○ ○ ○ ○ ○

679 ○ ○ ○ ○ ○



Numération


1 Ecris les nombres en chiffres.

5 centaines + 1 dizaine + 7 unités =


9 dizaines + 3 centaines + 1 unité =

4 centaines + 8 dizaines =

9 centaines + 3 unités =



2 Dessine le bon nombre de centaines, dizaines et unités.



--	--	--	--	--	--	--	--

3 Complète les suites en comptant de 10 en 10

210 ○ ○ ○ ○ ○

640 ○ ○ ○ ○ ○

720 ○ ○ ○ ○ ○

530 ○ ○ ○ ○ ○

450 ○ ○ ○ ○ ○

360 ○ ○ ○ ○ ○



Numération

Fiche 26


1 Ecris les nombres en chiffres.

6 unités + 3 dizaines + 8 centaines =

6 centaines + 7 unités + 4 dizaines =

9 dizaines + 3 centaines =

7 centaines + 2 unités =



2 Complète les suites en comptant de 10 en 10

206

--	--	--	--	--	--

837

--	--	--	--	--	--

841

--	--	--	--	--	--

346

--	--	--	--	--	--

928

--	--	--	--	--	--

245

--	--	--	--	--	--

3 Rangé les nombres du plus petit au plus grand.

451 - 230 - 751 - 524 - 109 - 251



--	--	--	--	--	--





Numération

Fiche 27

1 Décompose les nombres comme dans l'exemple :

456

$$400 + 50 + 6$$


264

328

924

867

735



2 Complète les suites en comptant de 10 en 10

180

270

370

480

586

387

3 Range les nombres du plus grand au plus petit.

659 - 891 - 106 - 89 - 789 - 628





Numération

Fiche 28

1 Décompose les nombres comme dans l'exemple :

456

400 + 50 + 6


679

604

805

240

370



2 Décompose le nombre comme dans l'exemple :

456

4 centaines 5 dizaines et 6 unités

831

724

205



3 Ecris les nombres.

trois-cent-soixante

huit-cent-vingt-neuf

six-cent-quarante

cinq-cent-trente-quatre

quatre-cent-un

sept-cent-dix-sept