

CALCUL MENTAL • Écrire au tableau $14 \times 9 = 126$.
Dicter des calculs liés du type 15×9 , 13×9 ,
etc.

..135.

..117.

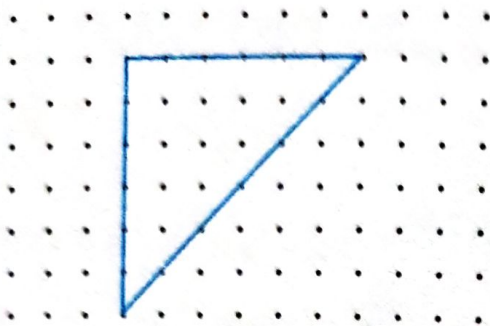
1.260

.140.

.112.

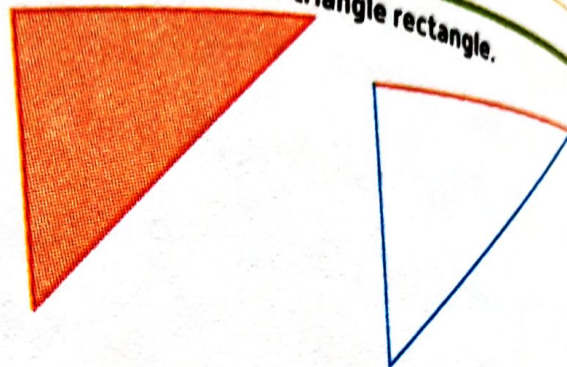
1

Trace un triangle rectangle.



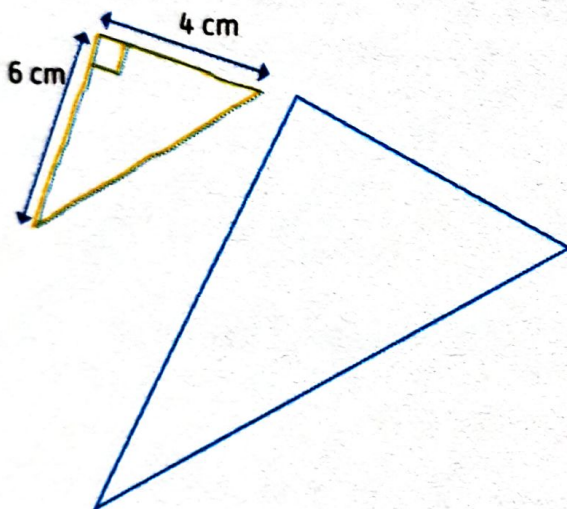
2

Finis de reproduire le triangle rectangle.




3

Nino a dessiné à main levée, sans utiliser sa règle et son équerre, la figure que tu dois tracer. Il a indiqué sur ce dessin les longueurs de 2 côtés. Trace précisément cette figure en utilisant tes instruments de géométrie.



4

Trace un triangle rectangle dont l'un des côtés de l'angle droit mesure 5 cm et l'autre 7 cm et 4 mm. Commence par faire un dessin à main levée pour t'aider.



5

Reproduis cette figure avec tes instruments de géométrie.

