

CALCUL MENTAL • Énoncer des additions et des soustractions du type  $621 - 40$ .

325


748

581


689

178


1 Combien de cubes faut-il pour fabriquer chaque figure ?



15 cubes



8 cubes




32 cubes

2 Combien de tours de couleurs différentes Agatha et Nino voient-ils ?

Nino

Nino voit 2 tours de couleurs différentes.



Agatha

Agatha voit 3 tours de couleurs différentes.

3 PROBLÈME

Entoure en rouge la façade vue par Archi.  
Entoure en vert la façade vue par Lali.

