



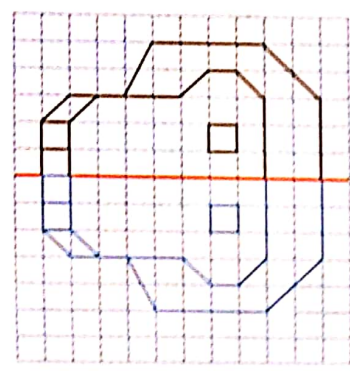
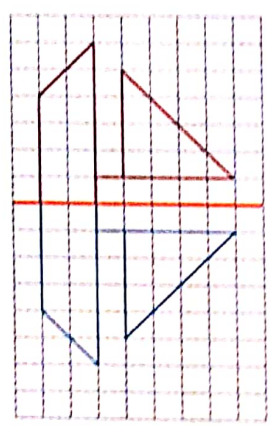
Chaque lettre a une symétrie particulière. Par exemple, la lettre A est symétrique par rapport à un axe vertical. La lettre H est symétrique par rapport à deux axes : un axe vertical et un axe horizontal. La lettre E est symétrique par rapport à un axe horizontal.

- SAIS
- ENR
- ANT
- ONS
- ONS

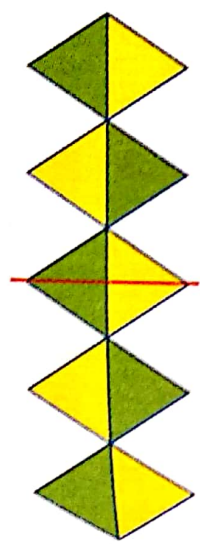
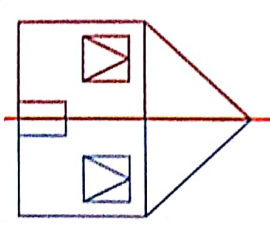
1 Complète par symétrie ce message pour trouver un mot caché. A quel animal a-t-on donné rendez-vous ?



2 Trace le symétrique de ces figures.



3 Avec du papier calque, trouve le symétrique de ces figures puis trace-le.



Compétence : Compléter une figure pour qu'elle soit symétrique par rapport à un axe donné.