

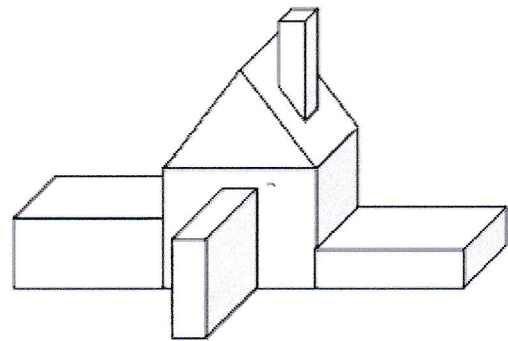
ENIGME MATHÉMATIQUE



Force !

On ne voit pas tous la même chose...

Damien et Elsa observent cette maison.

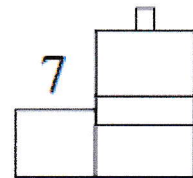
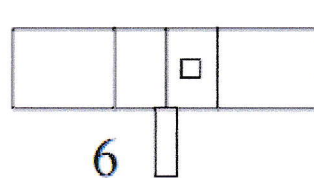

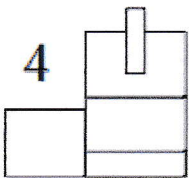
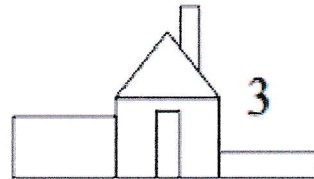
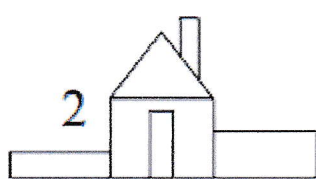
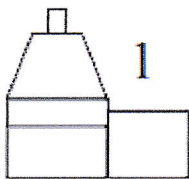


Damien

Voici maintenant plusieurs vues représentant des façades de maisons.



Elsa



- Quel est le numéro de la vue qui correspond à la façade que voit Damien ? _____
- Quel est le numéro de la vue qui correspond à la façade que voit Elsa ? _____
- Quelle est la vue, parmi les 5 restantes, qui correspond aussi à la maison ? _____