


MESURE DE MASSE : LE G ET LE KG


EXERCICES CE1 - LUNDI

Rappel : 1 g, je pense à un trombone. 1 kg, je pense à une boîte de sucre.









$$1 \text{ kg} = 1\ 000 \text{ g}$$

1 Colorie l'unité qui convient.

| | | | | | | | | |
|--|---|----|--|---|----|--|---|----|
|  | g | kg |  | g | kg |  | g | kg |
|  | g | kg |  | g | kg |  | g | kg |

2 Complète avec l'unité qui convient : g ou kg.

| | | |
|--|--|---|
|  Un trombone pèse 1 |  Un cartable pèse 3 |  Une gomme pèse 35 |
|  Un VTT pèse 16 |  La tablette de chocolat pèse 100 |  Le lapin nain pèse 1 |
|  Le bonbon pèse 5 |  Le bureau pèse 25 |  Une paire de lunettes pèse 50 |