

**2** Utilise les photos de l'exercice 1 pour compléter les affirmations.

a. Ils peuvent faire une empreinte de la même forme que celle-ci : ....



b. Ils peuvent faire une empreinte de la même forme que celle-ci : ....



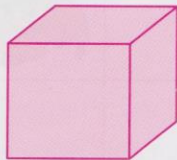
**3** Observe ces objets et complète avec les lettres correspondantes.

a. Ce sont des cubes : ....      b. Ce sont des pavés : ....      c. Ce sont des pyramides : ....




**4** Indique le nombre de faces et de sommets pour chaque solide.

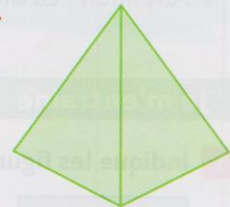
a.



b.



c.



**5** **PROBLÈME** Écris la réponse à la devinette de chaque enfant.

J'ai 8 sommets et 6 faces carrées. Qui suis-je ?



Jade

J'ai 5 faces dont certaines sont des triangles. Qui suis-je ?



Nabil

J'ai 8 sommets et 6 faces. Certaines de mes faces sont des rectangles. Qui suis-je ?



Rémi