


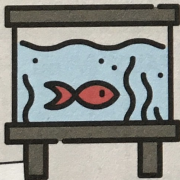







LES CONTENANCES

EXERCICES CE1 - MARDI

1

Colorie la mesure qui correspond à la contenance de chaque récipient.

<p>Une bouteille de lait</p>  <p>10L 100L 1L</p>	<p>Une baignoire</p>  <p>10L 150L 3L</p>	<p>Un arrosoir de jardinier</p>  <p>15L 2L 50L</p>
<p>Un aquarium</p>  <p>moins d'1L 130L 1L</p>	<p>Une tasse</p>  <p>moins d'1L 2L 8L</p>	<p>Le réservoir d'essence d'une voiture</p>  <p>2L 45L moins d'1L</p>
<p>Un seau pour faire le ménage</p>  <p>10L 90L moins d'1L</p>	<p>Une brique de jus d'orange</p>  <p>16L 2L 40L</p>	<p>Une grande poubelle</p>  <p>100L 3L moins d'1L</p>

2



Hugo veut laver son chien. Il doit verser 10 litres d'eau dans une grande baignoire.

- Avec quel récipient va-t-il remplir le plus rapidement la baignoire ?
- Combien de fois devra-t-il remplir la bouteille pour remplir la baignoire ?
- Combien de fois devra-t-il remplir l'arrosoir pour remplir la baignoire ?