





MESURE CE1 - RÉOLUTION DE PROBLÈMES

✕ Problème 1

Léa part à 13h de chez elle et met une demi-heure pour aller au cinéma. Le film dure 2h.
À quelle heure Léa sortira-t-elle du cinéma?

✕ Problème 2

Madame Nadar souhaite acheter un appareil photo numérique. Elle a choisi le modèle Focus XP31. Elle relève le prix de cet appareil sur 4 sites internet.

Site internet A	Site internet B
 Focus XP 31	 Focus XP 31
Prix: 482 € Livraison gratuite	Prix: 485 € Livraison: 9 €
Site internet C	Site internet D
 Focus XP 31	 Focus XP 31
Prix: 498 € Livraison gratuite	Prix: 475 € Livraison: 9 €

Sur quel site internet a-t-elle intérêt à commander cet appareil?

Quelle économie réalise-t-elle par rapport au prix le plus élevé?

✕ Problème 3

Au lancer de poids, Tom a atteint 3m 54cm. Il lui manque 7cm pour atteindre la même distance que son camarade Léo.

Quelle distance Léo a-t-il atteinte?