

Qui mange le plus?

A la cantine ce midi il y avait de la pizza.

Retrouve laquelle correspond à chaque enfant en t'aidant des indications données.

Et inscris le nom de celui qui en a le plus mangé en bas de la page.

Djannedy a mangé $5/12$ de sa pizza.





Télys $10/12$

Laily $2/12$

Samuel $4/12$

Laurina $1/12$

Lee-Roy $6/12$



Qui a alors mangé le plus?