

# Qui mange le plus?

1- Compte le nombre de part que chaque enfant a mangé...


2- Indique le sous forme de fraction

3- Inscris le nom de celui qui a le plus mangé de pizza en bas de la page.


Djannedy




Lee-Roy



Samuel




Lailly



Télys



Laurina



Qui a alors mangé le plus? .....