

Quotien : reporter une longueur  
sans la règle graduée avec le compas.

**PROBLÈME**

Problème : reporter une durée

« Une consultation dure 15 min. À quelle heure se termine-t-elle si elle commence à 17 h 13<sup>h</sup> à 18 h 00 ? »

17h30

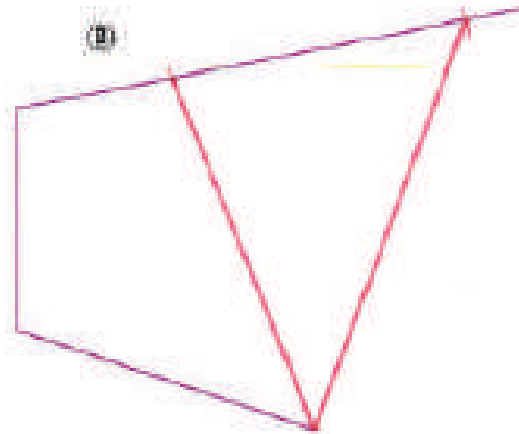
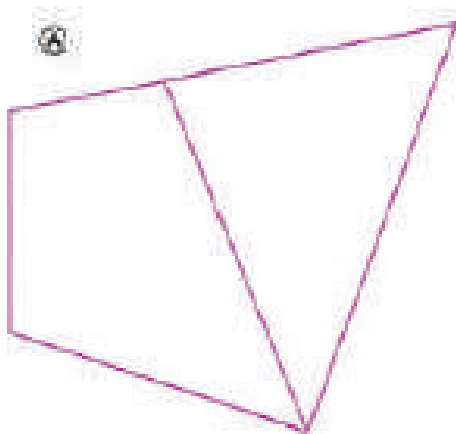
17h45

16h45

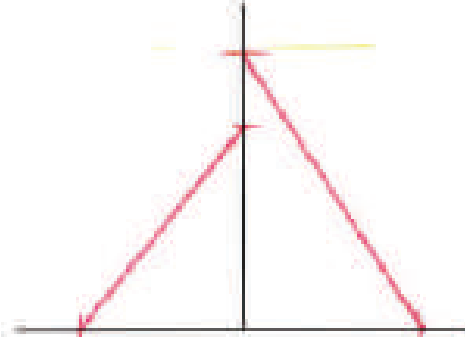
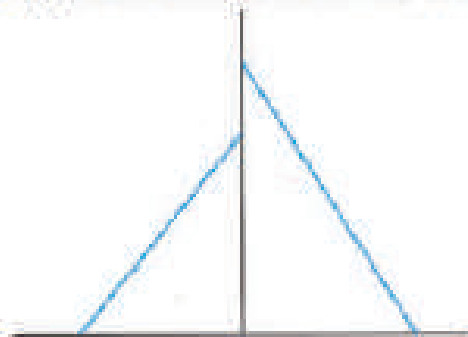
17h25

17h20

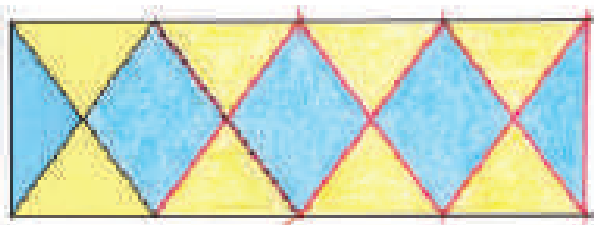
1 Construis une figure (B) identique à la figure (A). Reporte les longueurs avec ton compas.



2 Reproduis cette figure sans mesurer.



3 Continue la frise.



La petite question



Ces deux lignes  
ont la même  
longueur.  
Vrai ou faux ?



Vrai