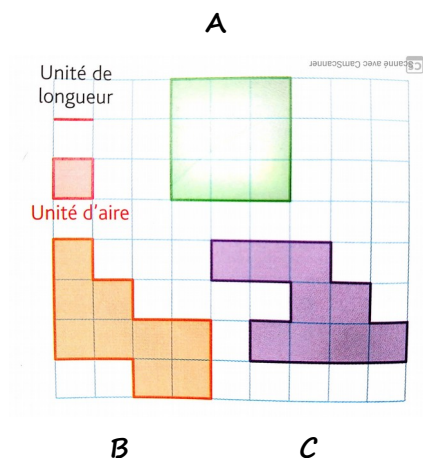


Corrections des Mathématiques CM1 – Mardi 26 mai

1) Voici 3 surfaces. a) Vérifie qu'elles ont la même aire.

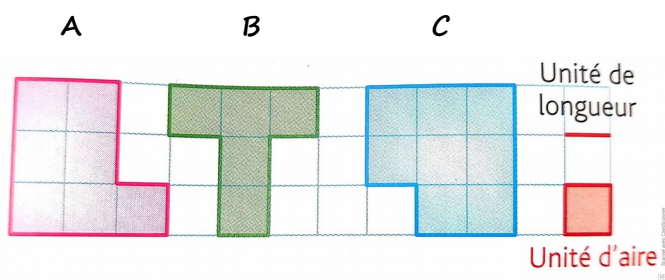
b) Range leurs périmètres dans l'ordre croissant. ( Utilise >, <, = )



périmètre de A < périmètre de B < périmètre de C

2) Voici 3 surfaces. a) Vérifie qu'elles ont le même périmètre.

b) Range leurs aires dans l'ordre croissant. ( Utilise >, <, = )

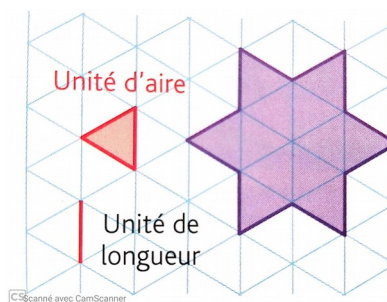


Aire de B < Aire de A < Aire de C

3) Ecris l'aire et le périmètre de l'étoile :

Aire de l'étoile = 12 unités.

Périmètre de l'étoile = 12 unités.



4) Quelle figure a un périmètre de 18 cm et une aire de 9 cm<sup>2</sup> ?

C'est la figure C.

