

RALLYE MATHÉMATIQUE CYCLE 1

PS – MANCHE 2

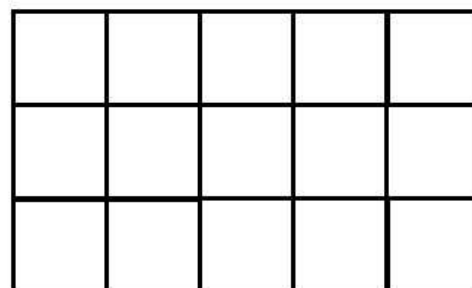
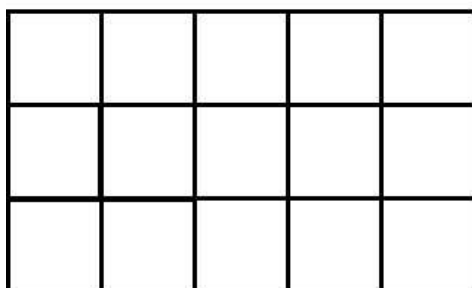
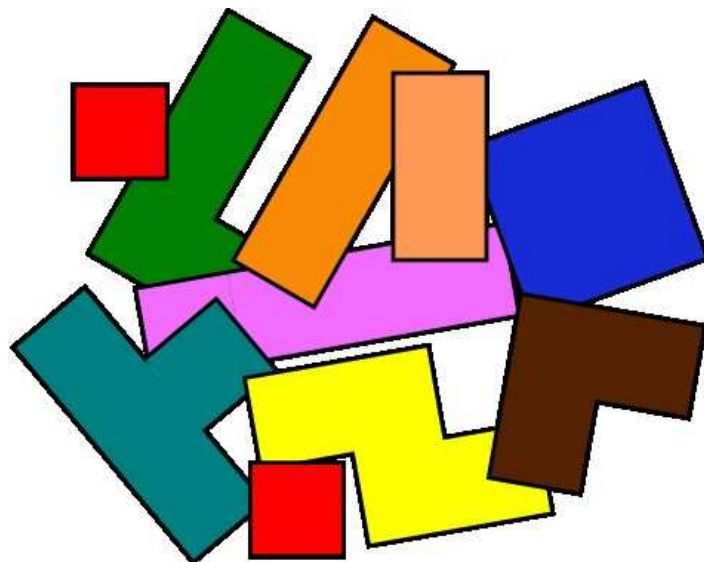
Bonjour les amis, vous vous souvenez de moi ? Je suis Bertrand le renard. Pour cette deuxième manche, les règles restent les mêmes. Il y a trois énigmes. Pour y répondre, vous allez pouvoir réfléchir seul ou vous mettre en petits groupes. Vous n'avez pas le droit de demander la réponse au maître ou à la maîtresse. Vous devrez vous mettre tous d'accord pour ne donner qu'une seule réponse.

Quand vous aurez fini, envoyez-moi vos réponses par courrier postal ou par mail (eh oui, j'ai internet dans ma tanière).
Bonne chance à vous !



RALLYE MATHÉMATIQUE CYCLE 1 - PS - MANCHE 2
GÉOMÉTRIE

Les amis ! J'ai besoin de votre aide. Regardez tous mes jouets : ils sont en bazar dans ma chambre. Pouvez-vous m'aider à les ranger dans les boîtes ? Les deux boîtes doivent être complètement remplies : pas une seule case blanche.



Envoyez-moi une photo des boîtes rangées en vous aidant de l'annexe envoyée par mail.

RALLYE MATHÉMATIQUE CYCLE 1 - PS - MANCHE 2
LOGIQUE

Miam ! Je vais me régaler ! Papa m'offre une glace deux boules. J'ai le choix entre trois parfums : vanille, fraise et chocolat.



Zut ! Je n'arrive pas à me décider. Pouvez-vous m'aider ? Je ne veux pas deux fois le même parfum. Je veux uniquement deux parfums différents. Combien de combinaisons sont réalisables avec ses trois parfums ?

Inscrivez la réponse dans le cadre

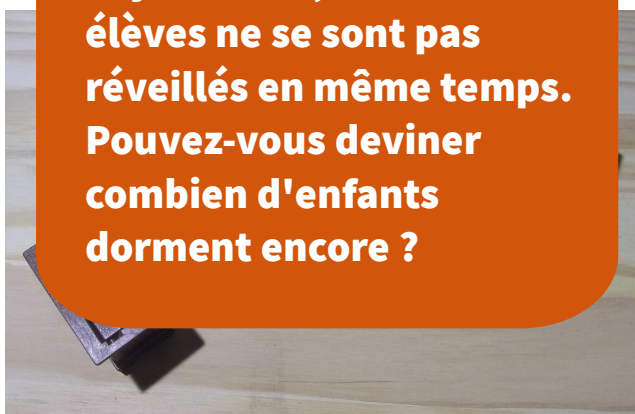
RALLYE MATHÉMATIQUE CYCLE 1 - PS - MANCHE 2
ARITHMÉTIQUE



Dans cette école maternelle, trois élèves font la sieste. Quand ils sont réveillés, ils sortent jouer dans la cour.



Aujourd'hui, tous les élèves ne se sont pas réveillés en même temps. Pouvez-vous deviner combien d'enfants dorment encore ?



Inscrivez la réponse dans le cadre