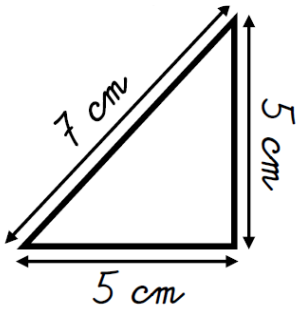
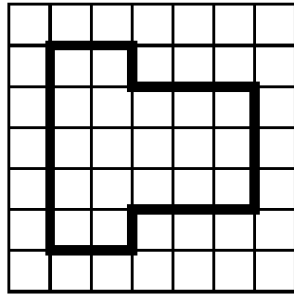


Périmètre CM1

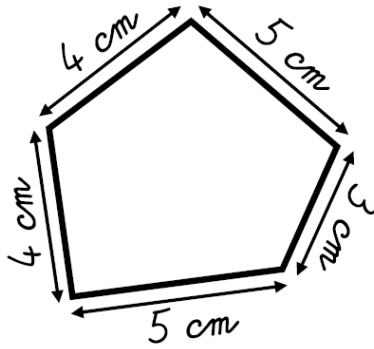
1. Calcule le périmètre de ces polygones.



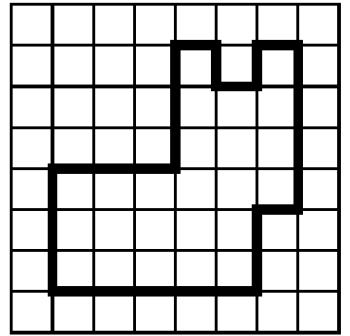
$P =$ _____
 $P =$ _____ cm



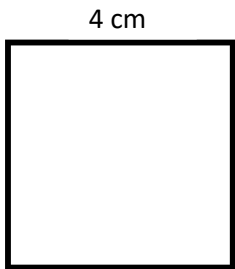
$P =$ _____
 $P =$ _____ carreaux



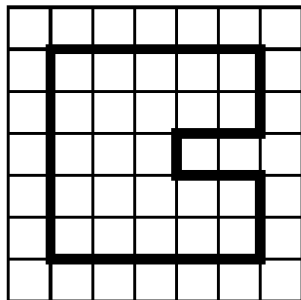
$P =$ _____
 $P =$ _____ cm



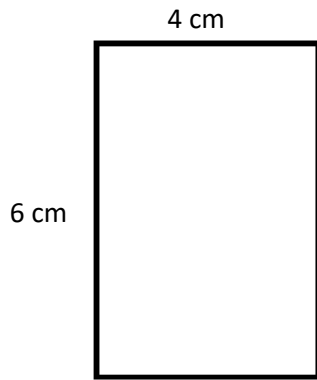
$P =$ _____
 $P =$ _____ carreaux




$P =$ _____
 $P =$ _____ cm



$P =$ _____
 $P =$ _____ carreaux



$P =$ _____
 $P =$ _____ cm



$P =$ _____
 $P =$ _____ carreaux

2. Résous ces problèmes (Tu peux dessiner le terrain sur une feuille avant de calculer).



Thomas veut entourer son potager carré de 15 m de côté avec une barrière. Quelle longueur de barrière lui faut-il?

.....

Mr Leteneur entoure d'une clôture grillagée un terrain de 31 m de longueur et 14m de largeur. Quelle sera la longueur de sa clôture?

.....

