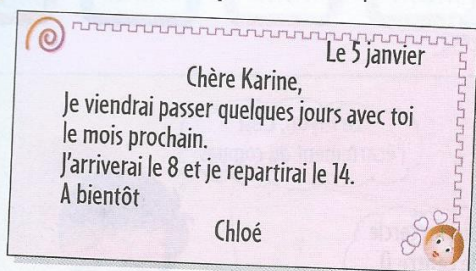


Mesurer des durées

5 Lis la lettre. Réponds aux questions.



Quel jour arrivera Chloé ?

Quel jour repartira-t-elle ?

Combien de nuits dormira-t-elle chez Karine ?

6

mars						
lun	mar	mer	jeu	ven	sam	dim
	1	2	3	4	5	6
7	8	9	10	11	12	13
14	15	16	17	18	19	20
21	22	23	24	25	26	27
28	29	30	31			

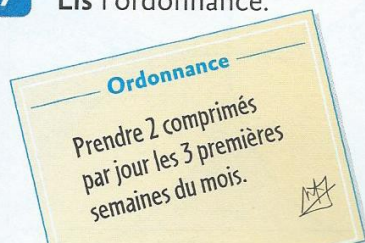
Pendant le mois de mars, les élèves vont avoir 5 séances d'initiation au théâtre, tous les jeudis après-midi. **Recherche** sur ce calendrier quel jour aura lieu la première séance.

À la dernière séance, il y aura une représentation.

Indique le jour :

7

Lis l'ordonnance.



★ mois de mai ★						
L	M	M	J	V	S	D
1	2	3	4	5	6	7
8	9	10	11	12	13	14
15	16	17	18	19	20	21
22	23	24	25	26	27	28
29	30	31				


Sur le calendrier, **entoure** chaque semaine de traitement.

Combien faudra-t-il de comprimés ?

Isidore fait ses courses

Isidore fait les courses

Isidore part faire les courses. Ses parents lui ont donné de l'argent et la liste des achats à effectuer.



1 Voici les pièces dont Isidore dispose.



Avec quelle somme d'argent part-il faire les courses ?

.....

2 Isidore va d'abord chez le marchand de journaux. Il achète le journal et un stylo-bille bleu. Il donne une pièce de 1 euro au marchand.




Quelle somme d'argent le marchand doit-il lui rendre ?

.....

Que reste-t-il dans son porte-monnaie en sortant ?

.....

3 Isidore va ensuite à la boulangerie. Il achète ce que ses parents ont noté sur la liste.



Combien lui reste-t-il en sortant ?

.....

4 Avec l'argent qui lui reste, Isidore veut acheter 2 paquets de fraises et 6 sucettes.

Peut-il le faire ?

.....

.....



5 Isidore se souvient que, dimanche dernier, il est parti avec 6 euros dans son porte-monnaie et qu'il n'y avait que des pièces de 50 centimes.

Combien de pièces y avait-il dans son porte-monnaie ?

.....

Chez le même boulanger, Zoé a acheté des sucettes et des chewing-gums. Elle a payé 75 centimes.

Peux-tu trouver ce qu'elle a acheté ?

.....

Alex, Arthur et Maïa ont mangé en tout 10 caramels. Alex en a mangé deux de plus que Arthur et Arthur en a mangé un de plus que Maïa.

Qui a mangé le plus de caramels ?

.....

Combien chacun a-t-il mangé de caramels ?

.....